

選擇題

- (B) 中國推動四大重點工程專案中的「南水北調」工程，可解除北部地區水源短缺的問題。請問：「南水」是指引用哪一條河川流域的水源？ (A)黃河 (B)長江 (C)珠江 (D)閩江。
- (C) 西元 2022 年，俄羅斯入侵烏克蘭，若是攻下其首都基輔，將造成將造成上千萬難民流離失所，導致歐洲動盪。其實早在十三世紀時，亞洲某草原民族就已經發動西征，也曾經拿下基輔地區，並且建立欽察汗國管理當地。請問：關於某草原民族的敘述，下列何者正確？ (A)該民族的成吉思汗發動三次西征 (B)該族群為發源北方的女真人 (C)建立元帝國，首都位於大都 (D)對待本族與外族人民皆一視同仁。
- (A) 明清時期，西班牙人將大量的白銀運到東方，以購買中國的瓷器、絲綢。請問：這些白銀的產地主要在哪裡？ (A)美洲 (B)東南亞 (C)西域 (D)非洲。
- (B) 臺中市議會通過《臺中市自助選物販賣業管理自治條例》，明定夾娃娃機設置點須在距離國中小 50 公尺以上。臺中市議會基於何者可以審議上述法令？ (A)權利 (B)權力 (C)主權 (D)人權。
- (D) 在明朝中葉之後，美洲的許多作物傳入中國，舒緩了因人口增加導致糧食不足的問題。請問：下列哪一樣作物是明朝中葉從美洲傳入中國？ (A)小麥 (B)棉花 (C)早熟稻 (D)玉米。
- (C) 中國現行的行政分區中，劃分成 22 個省、5 個自治區、4 個直轄市及 2 個特別行政區。請問：特別行政區分別為下列何者？ (A)澳門和深圳 (B)香港和深圳 (C)香港和澳門 (D)香港和海南。
- (B) 「凡奉基督教而立國者，必興辦女學以成就女子，使女人得以各就其所能獲得適切的發展，成為有用之材，更可能勝於男人，表明女子亦為可敬可重之人。」請問：下列哪一選項的觀點，和上述文字最為相符？ (A)信奉基督教，使女子獲得適切發展 (B)婦女受教育，得以和男人相提並論 (C)女人成為有用之材，關係到國家救亡圖存(D)女子受到敬重，可以達到保國強種的目標。
- (B) 新冠肺炎疫情期間，行政院推出簡訊實聯制，結合電信業者簡訊發送機制及 1922，民眾出入超商、量販店、百貨公司、餐廳等各種場所，需要掃碼、點選連結、發簡訊，完成實聯制登錄後才能進入。政府是基於下列何者而能夠推動上述制度？ (A)權利 (B)權力 (C)主權 (D)人權。
- (A) 南韓為世界重要出口大國，下列何者為其目前主要的工業發展主力之一？ (A)消費性電子 (B)農產加工品 (C)成衣紡織 (D)塑膠玩具、玩偶。

- (C) 地理課時，阿華正在學習繪製中國的地形圖，依據分層設色圖的用色原則，不同高度給予不同顏色，如附圖所示。請問：若從最高階梯至最低階梯的順序著色，下列何者正確？ (A)深藍、綠、紅 (B)粉紅、黃、藍 (C)咖啡、黃、綠 (D)深灰、綠、橙。



- (B) 參考資料一、二，下列敘述何者正確？

**資料一**

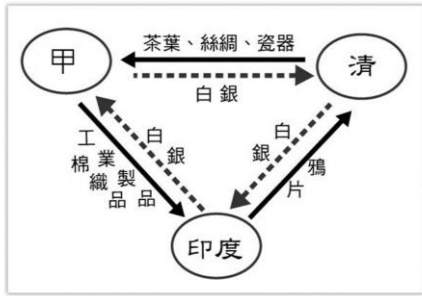
甲國因仰慕中國文化，儒學非常興盛，並仿效唐代的衣冠、曆法。

**資料二**

乙國曾派「遣唐使」至中國學習文化、佛法，文字創立也受到中國影響。

- (A)甲國應為日本 (B)甲國有「君子國」之稱 (C)唐代曾以公主與乙國和親 (D)乙國自此全面使用漢字。
- (C) 某本歷史書上寫著：「日本以小國之姿，居然能擊敗中國北方的大國，主要是因為日本推動政治改革，奠定了新的國家體制。」請問：上述的新國家體制指的是下列何者？ (A)君主專制 (B)開明專制 (C)君主立憲 (D)民主共和。
- (B) 中國東部沿海地帶最主要的三個工業區為：(甲)珠三角 (乙)環渤海 (丙)長三角。若由南而北排列，下列順序何者正確？ (A)甲乙丙 (B)甲丙乙 (C)丙乙甲 (D)乙丙甲。
- (A) 我國政府於民國 76 年解嚴後，隨著報禁、黨禁的開放，讓人民得以依法組成政黨，也可走上街頭表達意見。上述政府的作為，體現國家成立的何種目的？ (A)保障基本人權 (B)維持社會秩序 (C)發展社會福利 (D)保衛國家安全。
- (B) 中國在一九五〇年代以後人口大幅成長，除了政治趨於穩定外，尚與下列哪一個因素密切相關？ (A)實施生育政策 (B)醫療衛生改善 (C)發展軍事工業 (D)推行義務教育。

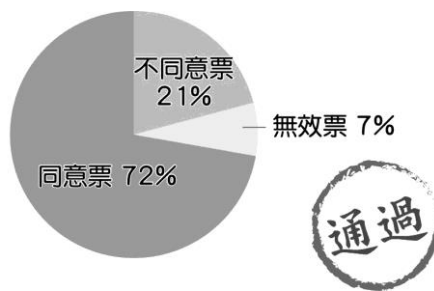
16. (B) 附圖是十九世紀清朝與甲國的貿易圖，從圖中內容判斷，甲國應是下列何者？ (A)法國 (B)英國 (C)美國 (D)俄國。



17. (C) 附圖為亞洲某半島的山脈形勢，其中甲地區所指的應為下列哪一地形區？ (A)黃土高原 (B)青藏高原 (C)蓋馬高原 (D)蒙古高原。

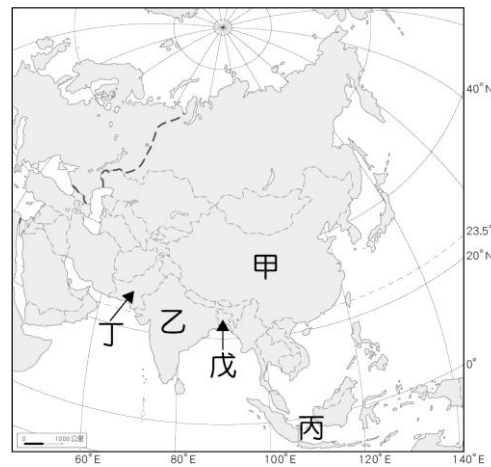


18. (D) 在民主國家，執政黨若在選舉中獲勝，便取得繼續執政的合法性基礎；若競選失敗，則產生新的執政黨，不致發生衝突或暴動。這種過程可顯現選舉的哪一項功能？ (A)促進權力分立 (B)追求社會正義 (C)發展自由經濟 (D)合法組成政府。
19. (A) 曾有人說過：「中國生產什麼，什麼的市場價格就下跌；中國購買什麼，什麼的價格就大漲。」請問：上述內容主要在強調中國的哪一種生產特色？ (A)中國產品生產規模大 (B)中國產品生產品質佳 (C)中國產品生產技術高 (D)中國產品生產效率高。
20. (A) 西元 1979 年，中國提出「一胎化政策」的主要原因為何？ (A)人口增加速度太快 (B)各種糧食生產過剩 (C)育兒福利支出太高 (D)人口性別比例失衡。
21. (B) 康康國的法律沒有一定的規範標準，全憑國家主席諾克的好惡，專斷獨行，法律的制定也沒有一定的立法程序，諾克就是法律，即使政策錯誤也不必對人民負責。由上可知，康康國屬於下列何種社會？ (A)法治社會 (B)人治社會 (C)民主社會 (D)自由社會。
22. (B) 下圖為民眾針對某議題的公投結果：



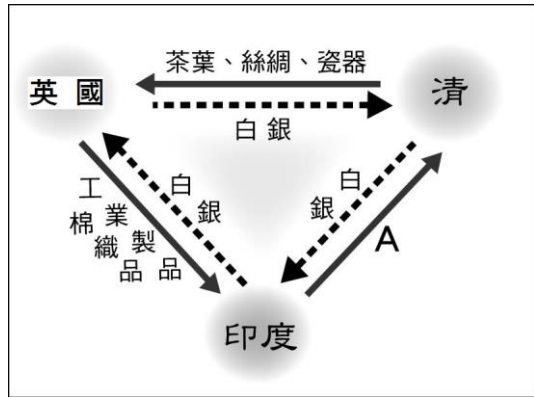
民眾所投的票包括同意票、不同意票、無效票，最能反映出公共意見的哪一項特性？ (A)議題性 (B)複雜性 (C)變動性 (D)影響性。

23. (B) 公民老師：「能將特定意志強加於他人，並且對其產生強制與支配的一種力量。」公民老師所說之「力量」，是指下列何者？ (A)權利 (B)權力 (C)習俗 (D)道德。
24. (B) 國家建立警察系統，以公權力除暴安良，使人民得以安居樂業，生命財產不致受到外來的威脅。上述政府的作為，彰顯出國家存在的哪項目的？ (A)保衛國家安全 (B)維持社會秩序 (C)發展社會福利 (D)保障基本人權。
25. (A) 元朝時，來自福建的大雄經過數年的寒窗苦讀，赴京趕考。請問：他在準備科舉考試期間，最該研讀的是下列何人的著作？ (A)朱熹 (B)畢昇 (C)張擇端 (D)忽必烈
26. (B) 契丹族原為草原民族，後來之所以能持續向南擴張，與什麼原因有關？ (A)聯合蒙古族，攻擊漢人 (B)取得漢人農業生產區，強化國力 (C)利用貿易優勢，吸引南方民族投降 (D)拒絕吸收他族文化，保有強悍風格
27. (C) 附圖甲～戊為季風亞洲人口總數前五名的國家，依據其分布位置判斷，這五個國家所涵蓋的地區不包括亞洲哪一分區？ (A)東亞 (B)南亞 (C)北亞 (D)東南亞。



28. (B) 下列何者不是中國目前已設立的自治區？ (A)新疆維吾爾自治區 (B)貴州苗族自治區 (C)寧夏回族自治區 (D)西藏自治區。
29. (C) 中國南方人喜食米飯，搭配不同配飯的菜肴，衍生出不同菜系，各有特色。由南方廣植水稻推測，稻米喜愛的生長環境應為何？ (A)冬季嚴寒 (B)乾燥少雨 (C)氣候暖溼 (D)日溫差大。
30. (B) 北韓的工業發展比南韓早，主要與下列哪一個因素關係可能最密切？ (A)勞力較多 (B)礦產資源較豐 (C)學術水準較高 (D)經濟高度發展。

31. (A) 附圖為中國某段時期對外交易的簡要示意圖，請問圖中 A 貨品應為下列何者？ (A)鴉片 (B)茶葉 (C)絲綢 (D)棉織品。



32. (B) 附圖為中國某時期重要的對外道路，關於該道路的敘述，何者有誤？
- (A)原為各民族間的交通貿易聯絡道路 (B)中國的佛教、文化和器物由此輸出 (C)這條道路最遠到大秦 (D)漢武帝派遣張騫由此道路出使西域。
33. (C) 中國東半部為季風氣候，其形成的主要原因有哪些？ (甲)位居亞洲大陸的東南部 (乙)位居中緯度地區 (丙)地形複雜 (丁)瀕臨太平洋 (A)甲乙 (B)甲丙 (C)甲丁 (D)丙丁。
34. (A) □□是指人民依法有向國家請求主張各種利益的正當性，以確保其生存的尊嚴。例如：人民在政治上有選舉權與罷免權。上述□□應填入下列何者？ (A)權利 (B)權力 (C)義務 (D)責任。
35. (D) 中國人口眾多，具有下列哪一項潛力？ (A)糧食生產不足 (B)人口素質較低 (C)人口過度集中 (D)勞動力充足。
36. (D) 中國主要的盆地中，唯一位於最高階梯的是哪一個盆地？ (A)準噶爾盆地 (B)塔里木盆地 (C)四川盆地 (D)柴達木盆地。
37. (B) 西元 2018 年地方九合一大選時，設籍於臺北市的家恩首次參與選舉，並將他手中神聖的一票投給他心目中理想的候選人。依據我國法律規定，家恩應於臺北市設籍滿幾個月才有選舉的資格？ (A)3 個月 (B)4 個月 (C)5 個月 (D)6 個月。
38. (D) 政府是國家組成的要素，但國家是抽象概念，國家的各種公共事務必須透過有具體組織的政府來執行，所以政府是國家事務的執行者。下列敘述何者正確？ (A)政府的概念包含國家的概念 (B)國家擁有統治權 (C)政府擁有主權 (D)政府為短暫且可改變的組織。
39. (D) 現代社會強調法治的概念，下列關於法治的敘述，何者正確？ (A)法律由少數有權勢的人決定 (B)依上位者的喜好來決定罰則 (C)人民的生命與財產毫無保障 (D)人民與政府都必須遵守法律。
40. (B) 改革開放前期，中國輕工業的分布明顯集中於東部和

沿海地區，最主要的原因為何？ (A)礦產豐富 (B)交通便利 (C)氣候溼熱 (D)地形平坦。

41. (A) 下列哪些是地方政府的行政機關？ (A)甲丙戊 (B)乙丙戊 (C)乙丁戊 (D)丙丁戊。

- (甲)臺北市政府  
(乙)基隆市議會  
(丙)花蓮市公所  
(丁)臺東市民代表會  
(戊)桃園市復興區公所

42. (B) 日本任天堂公司推出的 Switch 自西元 2017 年 3 月開賣以來，截至 2022 年，全球累計銷量已破 1.2 億臺。由於市場需求火熱，該公司在日本海外的生產基地加速趕工，而國內研發單位也致力新產品的設計。請問：上述提及日本企業選擇到海外生產，與其國內何種環境最相關？ (A)缺乏遊戲機所需原料 (B)國內的薪資成本較高 (C)採行高壓獨裁統治的制度 (D)國內有消費緊縮的情形。
43. (C) 漢朝初年時常與北方的匈奴發生衝突，為了抵禦匈奴，漢朝派遣特使張騫至西域串聯各國共同對抗匈奴，也因此打通了往中亞、歐洲的貿易通道。請問：後世稱此貿易通道為下列何者？ (A)瓷路 (B)陶路 (C)絲路 (D)西路。
44. (C) 「日本任天堂的 Switch 深受消費者喜愛，美國是任天堂第一大買家，占核心業務營收的 43%，歐洲和日本市場分別占 27% 和 21%。然而，由於新冠肺炎 (COVID-19) 疫情影響到部分工廠的營運，導致任天堂在中國的零組件供應商產能大幅下降，無法維持任天堂在越南組裝工廠的產能。」請問：根據上面敘述，下列關於國際分工的說明何者正確？ (A)中國設計，日本製造 (B)美國設計，日本製造 (C)日本設計，越南製造 (D)日本設計，美國製造。
45. (D) 下列有關立法院職權的相關敘述，何者錯誤？ (A)對行政院院長提出不信任案 (B)向行政院各部會首長提出質詢 (C)制定法律 (D)解釋法律。