
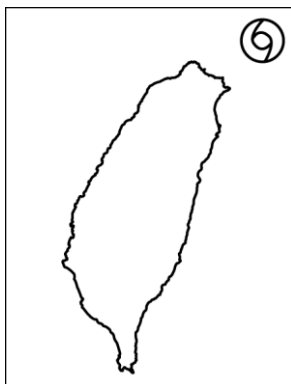


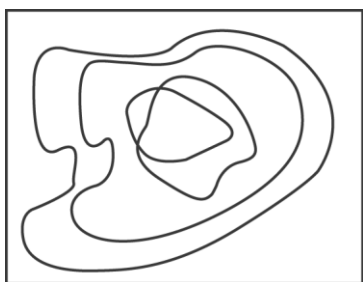
選擇題

- (B) 傳統的地圖中，可以看到許多橫向及縱向的直線。請問：地圖中繪製這些直線的目的為何？ (A) 易於辨別形狀 (B) 便於尋找位置 (C) 利於尋找高度 (D) 方便確認距離。
- (D) 超人國的國土範圍，從東經 30 度向西跨到西經 10 度。請問：該國的經度範圍為何？ (A) 10 度 (B) 20 度 (C) 30 度 (D) 40 度。
- (C) 小丁在課本上讀到：臺灣的氣候溼熱、高溫多雨、物產豐盛，被稱之為「寶島」。請問：這和臺灣的哪一個地理條件關係最大？ (A) 位於東半球 (B) 位於北半球 (C) 北回歸線經過 (D) 赤道通過。
- (D) 師大地理系學生完成野外實察，學生在整理資料準備繪製考察地圖時，教授特別提醒要注意繪圖時所使用的比例尺標示，以避免在放大或縮小時出現誤差。請問：為避免上述情形發生，應使用下列哪一種比例尺標示法？
(A) 1/10000 (B) 1:10000 (C) 一萬分之一
(D)  公尺
- (C) 臺灣位於西太平洋颱風路徑上，常有颱風侵襲，若今年夏季侵臺的第一個颱風，其位置如附圖所示。請問：該颱風的經緯度位置可能為何？



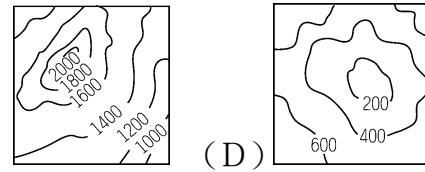
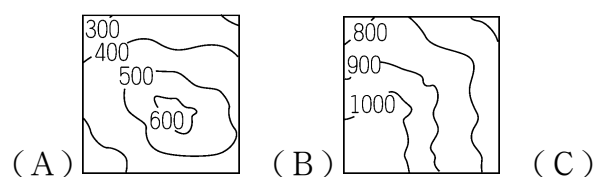
- (A) 80°E, 70°N (B) 118°E, 22°N (C) 122°E, 25°N (D) 132°E, 20°N。

- (B) 附圖是小新首次繪製的丘陵等高線地形圖，圖中哪一點是錯誤的？




- (A) 等高線數量太少 (B) 等高線相交錯 (C) 等高線間距太小 (D) 等高線沒有閉合。

- (D) 臺北市、臺中市及埔里所在地均屬於下列哪一種地形？



- (D) 地表景觀主要由各種作用力所造成。請問：形成附圖中景觀的最主要作用力為何者？



- (A) 風化作用 (B) 板塊作用 (C) 侵蝕作用 (D) 堆積作用。

- (A) 小陳一家人利用寒假前往某地區的海邊戲水，在難得的冬陽下，度過一個愉快的下午。請由他們當時所拍攝的照片判斷，下列有關該地區海岸特色的敘述，何者正確？



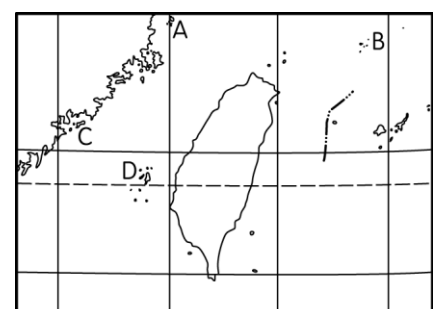
- (A) 海水深度較淺 (B) 多海灣分布 (C) 海岸線較彎曲 (D) 有利於船隻航運。

- (A) 達叔騎著拉風的哈雷機車展開旅遊行程，若他由附圖中的甲處出發，一路南下經由乙處，再到達丙處，他所經之處主要的海岸地形種類依序應為何？



- (A) 岬灣海岸、斷層海岸、珊瑚礁海岸 (B) 岬灣海岸、斷層海岸、沙岸 (C) 珊瑚礁海岸、沙岸、斷層海岸 (D) 珊瑚礁海岸、斷層海岸、岬灣海岸。

- (A) 附圖為臺灣周圍離島位置圖，已知馬祖列嶼位於臺灣西北方。依此推斷，圖中何地是馬祖所在？

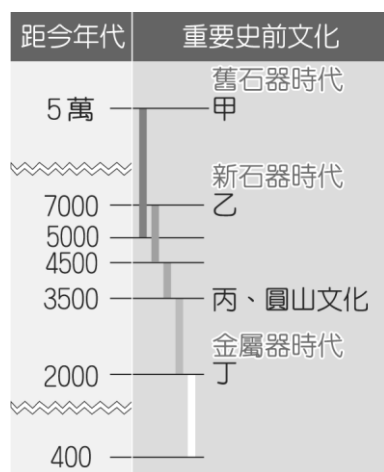


- (A) A (B) B (C) C (D) D。

- (A) 冬天的時候，臺灣各地區的溫度都不相同。在不考慮

地形因素下，小名寒假時想到下列這些地區遊玩，他到達哪一地區的時候，當地的氣溫可能最低，要特別注意添加禦寒的衣物？ (A)宜蘭 (B)嘉義 (C)臺中 (D)臺東。

13. (C) 「本區有半年的乾季，各河川的流量 89% 集中於夏季，農業發展依賴水利設施分配水源。」請問：上文應該是對臺灣哪一地區的描述？ (A)北部 (B)離島 (C)南部 (D)山區。
14. (B) 海、湖、河中的水被太陽輻射熱力轉化成氣態水的現象，稱為何者？ (A)入滲 (B)蒸發 (C)逕流 (D)蒸散。
15. (C) 歷史老師要同學們寫一篇關於史前時代大坌坑文化的報告。請問：下列哪一本書籍最具有參考價值？ (A)《大臺北都會區原住民歷史特輯》 (B)《八里十三行史前文化》 (C)《臺灣的新石器時代文化與遺址》 (D)《臺灣鑄鐵發展史》。
16. (D) 附圖是臺灣史前文化分期示意圖，根據圖中所示，丁應是屬於哪一個文化？



- (A)大坌坑文化 (B)卑南文化 (C)長濱文化 (D)十三行文化。
17. (B) 約四百年前，清廷將高山各族稱為「生番」；到了日治時期改稱為「高砂族」；而到了中華民國時期，則稱為何者？ (A)平埔族 (B)山地同胞 (C)熟番 (D)高砂族。
18. (D) 16 世紀的臺灣為何成為國際競爭的重要據點？ (A)臺灣島內農產豐富 (B)歐洲人稱呼臺灣為「美麗之島」，使得臺灣聲名大噪 (C)臺灣島上並無統一政權，各國都想掠奪臺灣的礦產資源 (D)臺灣的地理位置恰好位於東亞國際貿易航線的中央。
19. (A) 1620 年代，臺灣今日雲林至嘉義一帶，成為哪些海商的根據地？ (A)顏思齊、鄭芝龍 (B)顏思齊、鄭成功 (C)鄭芝龍、鄭成功 (D)鄭成功、沈有容。
20. (C) 西班牙占領臺灣北部後發展對外貿易，但因日本實行鎖國政策，使得對日貿易發展受挫，加上菲律賓南部發生動亂，所以大量減少駐臺守軍，於 1642 年被下列何者所驅離？ (A)葡萄牙人 (B)日本人 (C)荷蘭人 (D)英國人。
21. (C) 香如在一本臺灣史書中看到一段文字：「順治 9 年 (1652 年)，土民郭懷一反，戮於赤崁城，民被土番混殺。」請問：郭懷一是為了反抗哪一國人在臺灣的苛稅暴斂？ (A)日本 (B)葡萄牙 (C)荷蘭 (D)西班牙。

22. (C) 清康熙皇帝決定保留臺灣後，在臺灣設置的行政區劃為何？ (A)一府二縣 (B)一府二州 (C)一府三縣 (D)一府四縣二廳。
23. (C) 英商「怡和洋行」自清代以來已在臺灣成立據點，至今仍擁有頂好超市、Pizza Hut 等股份。請問：英商「怡和洋行」可在臺灣設立據點的原因為何？ (A)臺灣開始進行自強運動 (B)臺灣建省 (C)臺灣開港通商 (D)臺灣割讓給日本。
24. (B) 某位清代官員認為：「臺地自去年倭人啟釁，外假復仇，內圖占地，狡謀已露，逆燄方張，不得已而有撫番開路之舉。」請問：這段文字可能是何人主張開山撫番的觀點？ (A)沈有容 (B)沈葆楨 (C)劉銘傳 (D)鄭成功。
25. (D) 某一地方志記載：「此人在富戶的支援下，聚眾二百餘人，進入番地。1798 年在烏石港築成頭城，作為拓墾的基地，其後閩、粵移民陸續加入，逐漸拓墾，終將宜蘭平原全境開拓。」文中的「此人」是何者？ (A)朱一貴 (B)張達京 (C)施琅 (D)吳沙。
26. (C) 清帝國時期臺灣有所謂「郊」的組織出現，其性質類似下列何者？ (A)政府機關 (B)宗教團體 (C)商人行會組織 (D)文教組織。
27. (B) 清帝國期有一種商品大部分由附圖中的甲地輸出。請問：這應是哪一種商品？



- (A)糖 (B)樟腦 (C)鴉片 (D)紡織品。
28. (A) 小鈺在書上所看到的一段話如下：「無田宅、無妻子、不士不農、不工不賈、嫖賭摸竊、械鬥樹旗，靡所不為。單身遊食四方，隨處結黨，且衫褲不全，赤腳終生。」請問：這是描述清帝國早期下列何者的生活寫照？ (A)羅漢腳 (B)讀書人 (C)傳教士 (D)原住民。
29. (A) 一群有血緣關係的同姓者，以來臺第一代祖先作為祭祀對象，這種祭祀對象應是指下列何者？ (A)開臺祖 (B)唐山祖 (C)媽祖 (D)土地公。
30. (B) 由何事可知在清帝國時期臺灣的文教風氣已逐漸開展？ (A)宗族組織普遍設立 (B)書院、學校林立 (C)廟宇眾多 (D)臺灣建省。
31. (D) 邵平是我國國民，他與美國籍女子結婚後生下一女，對於女兒國籍的歸屬感到疑惑，因此上網尋求相關資訊。下列何者的回答正確？ (A)因為非父母雙方都有我國國籍，所以女兒沒有我國國籍 (B)女兒要再辦理歸化手續後才能取得我國國籍 (C)要看女兒是否出生在我國境內才能決定國籍 (D)父親具有我國國籍，因此女兒也有。
32. (B) 婕妤在探討《世界人權宣言》第 10 條時，舉了「亡鈇意鄰」這個寓言故事說明，她想表達的主旨最接近下列何者？

闡述

當你有了先入為主的觀念，你看人家的眼光便不同了，例如：你懷疑某人偷東西，於是他的一舉一動你看起來都像做了壞事，你對他的態度和行為也開始產生主觀、偏頗的成見，這對他而言是不公平的。

(A)犯錯者不該受到平等的尊重 (B)偏見易導致對人性尊嚴的侵犯 (C)對他人的看法屬於個人自由 (D)被懷疑者應證明自己的清白。

33. (B) 青少年有時在性別互動上，欠缺性別尊重，有時會讓對方感受到言語或行為的騷擾。請問：下列哪一位同學碰到的問題不屬於性騷擾？ (A)曉玉：同學喜歡講黃色笑話，讓我覺得很不自在 (B)君翔：下課時總是有許多女同學拿情書給我 (C)小香：上禮拜有男同學偷看我換體育服 (D)風間：同學常常惡作劇脫我褲子。

34. (D) 網友看到以下一則貼文，便踴躍留言，何人的留言較符合普世人權的精神？

熱門貼文

我是個愛滋病患，一般日常生活的接觸並不會傳染愛滋病給別人，但當我誠實告知主管實際病況後，主管認為這將對公司造成負面影響，要求我主動離職，可是我在工作上一直表現稱職，這對我並不公平啊！

(A)麗麗：政府應建立愛滋病患的資料庫，供民眾查閱 (B)迪迪：愛滋病患應自主限制活動範圍，確保他人安全 (C)承承：企業在面試員工時，應拒絕任用愛滋病患 (D)琦琦：愛滋病患應與任何人一樣，享有相同權益。

35. (A) 1948年聯合國發表哪一文件，列舉出人權的具體內涵？ (A)《世界人權宣言》 (B)《中華民國憲法》 (C)《性別工作平等法》 (D)《性騷擾防治法》。

36. (C) 某政府單位發布的「女性僱用管理調查」以及「婦女就業平等概況調查」顯示，在職場上，女性在工作分配部分受到不公平待遇為最多。而上述的現象顯示須加強落實下列哪一法律的立法目的？ (A)《性騷擾防治法》 (B)《性別平等教育法》 (C)《性別工作平等法》 (D)《公民投票法》。

37. (A) 若要落實家庭中的性別平權觀念，下列哪一項作法錯誤？ (A)認為家庭是以丈夫為中心，妻子須放棄自我，全力配合丈夫 (B)法律逐步修正不合理的法條 (C)夫妻之間對於家務分工、經濟分擔，應該互相協助與扶持 (D)夫妻應共同處理家庭事務，並互相尊重。

38. (B) 我國法律規定父母對於未成年的子女有保護及教養的權利，這種權利稱為下列何者？ (A)人權 (B)親權 (C)民權 (D)父母權。

39. (B) 我國《憲法》規定，人民有受國民教育的權利與義務。下列何者是受教育的目的？ (A)培養自私人格 (B)開拓國際視野 (C)追求奢侈生活 (D)服從上級命令。

40. (D) 下列關於「霸凌」行為的敘述，何者正確？ (A)集合時，要求同學排好，屬於侵犯個人的身體自主 (B)腳受傷的同學，被要求在家休養，屬於排擠弱勢同儕 (C)大聲要求同學上課不要講話，屬於言語上的暴力

攻擊 (D)每日被同學譏笑太肥，身材像豬，屬於言語辱罵。

41. (B) 參與校園公共事務可培養參與公共事務的素養，下列哪一項可以學習到參與校園公共事務？ (A)利用班會時間討論是否罷免總統 (B)透過班聯會，討論各班級共同事項 (C)參加學生社團，討論身分證是否廢除性別欄 (D)利用學生自治會，武力反抗學校的所有制度。

42. (A) 在校園中，「班會」是學生自治的重要活動。請問：關於「班會」的敘述，何人說明正確？ (A)安慶：是培養理性溝通與協調能力的課程 (B)家明：對於議題進行中發生程序錯誤，可提出權宜問題 (C)亭萱：學生開個會並不正式，不需依照會議規則進行 (D)美香：學生可透過班會決定老師人選。

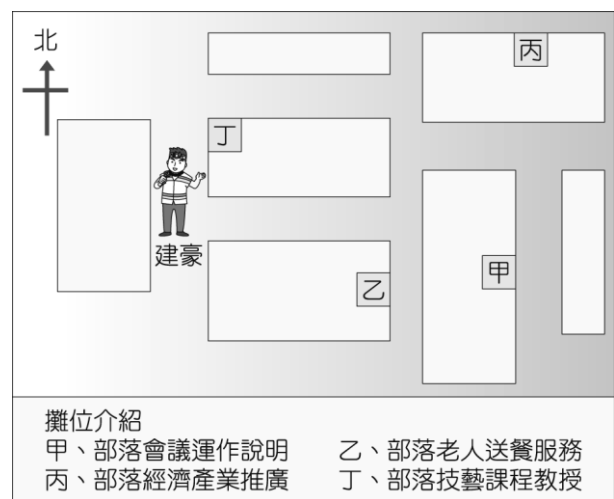
43. (C) 瑤穎正在研究原住民族與土地之間的關係，下列敘述何者較符合她的需要？ (A)將資源消耗殆盡後，頻繁更換場域 (B)土地開發完成後，從事交易和販售 (C)部落與土地緊密連結，不輕易離開 (D)強占他人土地，不斷擴張勢力範圍。

44. (A) 幾位原住民正在討論部落事務，根據附圖對話內容，他們解決問題所採取的方式應為下列何者？



(A)透過公民參與 (B)利用宗教傳播 (C)發動暴力抗爭 (D)爭取國際支持。

45. (B) 建豪參觀社區辦的原住民族睦鄰活動，他想了解部落內有關生活照顧的功能，那麼他應該走到哪一個攤位詢問？



(A)甲攤位 (B)乙攤位 (C)丙攤位 (D)丁攤位。