

# 內壢國中 111 學年度第二學期八年級社會科補考題庫卷

本試卷共6頁

年 班 座號： 姓名：

## 一、單題：每題 2 分，共 100 分

- ( )二十世紀起，美國積極介入國際事務。1950 年代起，東亞某一場以美軍為主力的軍事行動中，美國除了原子彈沒有動用外，幾乎把當時的尖端武器如直升機等都用了，也付出三十多萬傷亡的代價，最終還是被迫撤離。請問：這場軍事行動的地點，最有可能是下列何地？ (A)朝鮮半島 (B)菲律賓 (C)越南 (D)泰國。
- ( )民國初年，某家報社的報導如下：教育部順應各界呼籲，頒發命令要求首都學務局、各省教育廳、各地高等與師範學校，根據國語統一籌備會函，將新式標點符號頒行全國。請問：教育部頒布此令的主要目的，最有可能是下列何者？ (A)能更便利閱讀文言文 (B)能避免斷句不同造成誤解 (C)能更有利於推廣印刷術 (D)能讓就讀小學者增加。
- ( )1952 年 6 月，某國艦隊司令來臺後，在會議中致詞：「目前本艦隊雖在韓國負有作戰任務，好在距離不遠，如能預知匪犯臺灣之行動，至少兩日即可趕來協助。」請問：這位艦隊司令最有可能來自下列哪一國家？ (A)英國 (B)日本 (C)韓國 (D)美國。
- ( )民國初年的學者梁漱溟認為，帝國主義、軍閥是中國人民的最大敵人。他在 1930 年的一封信中指出：「數年來的革命潮流中，大家所認為第一大仇敵是國際的資本帝國主義，其次是國內的封建軍閥。」請問：軍閥割據局面的產生始於下列何事？ (A)辛亥革命 (B)保路運動 (C)袁世凱逝世 (D)軍政府成立。
- ( )附表為某一時期官方所頒行機關學校放假日期的部分內容，根據內容判斷，此一日程最可能由下列何者所頒行？

放假日期	放假事由及天數
1/1	中華民國開國紀念，放假一天
1/2-1/3	新年，放假二天
3/12	孫中山逝世紀念，放假一天
3/29	黃花岡七十二烈士殉國紀念，放假一天
10/10	中華民國國慶紀念，放假一天
11/12	孫中山誕辰紀念，放假一天

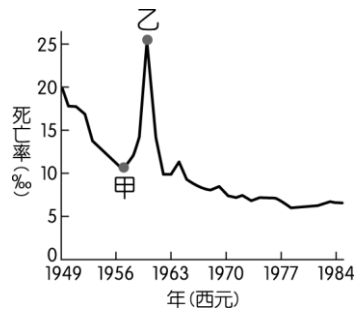
- (A) 1895 年的清廷 (B) 1912 年的北京臨時政府 (C) 1929 年的南京國民政府 (D) 1945 年的臺灣總督府。
- ( )漠南非洲的農牧業活動受自然環境與現代科技影響，各地的活動型態皆不相同。下列有關兩者的配對中，何者最為相關？ (A)熱帶雨林氣候—酪農業 (B)熱帶沙漠氣候—綠洲農業 (C)熱帶莽原氣候—地中海型農業 (D)溫帶地中海型氣候—熱帶栽培業。
  - ( )下列是某一則新聞報導：小斌將限量款高級自行車借給 17 歲的阿德騎去環島，阿德卻不慎將車撞毀，所幸沒有波及他人，事發後雙方自行簽訂高額賠償契約。不過阿德的父母得知後反對這份契約，於是阿德事後反悔不願依約賠償，小斌因此告上法院要求阿德履行契約，但法官以該契約無效為由，判決小斌敗訴。關於上述報導內容，下列哪一項推論最合理？ (A)二人簽訂的契約因為違反公共秩序而無效 (B)阿德因為不是故意撞毀，不用負賠償責任 (C)小斌敗訴的原因是阿德為限制行為能力人 (D)應該復該輛自行車，不得索取金錢為賠償。
  - ( )一名 20 歲的男大生在網路上表示：他在上課時，不慎摔到女同學的手機，導致螢幕因此有些裂痕。女同學向他索賠 3 萬，男大生覺得不合理，因為 3 萬元已經能買一支全新的同型號手機了。依據民法的規定，下列敘述何者正確？ (A)男大生的父母須負相關賠償責任 (B)男大生必須依照對方的要求進行賠償 (C)男大生無須為其不小心的行為負擔賠償責任 (D)男大生雖須賠償，但應以維修手機、恢復原狀為原則。
  - ( )某人認為「中國文字，既難傳載新事新理，且為腐毒思想之巢窟，廢之誠不足惜。……當此過渡時期，唯有先廢漢字，且存漢語，而改用羅馬字母書之。」請問：這段言論，最有可能出現於下列哪一時代的中國呢？ (A) 1810 年代 (B) 1860 年代 (C) 1910 年代 (D) 1960 年代。
  - ( )1955 年，亞洲、非洲許多國家在印尼召開會議，主張促進亞、非國家之間的友好合作；1960 年代，印度、埃及等國強調獨立自主和不與美、蘇強權結盟。請問：上述會議與立場，最可能反映出下列何者？ (A)太平洋戰爭的結束 (B)冷戰時代的對峙 (C)共產世界的瓦解 (D)兩次石油危機。
  - ( )有位中國老農夫回憶：「當時人人將鍋、鏟全丟進煉鐵爐燒煉。因為上級交代蓋一條用來運鋼的道路，所以只好將墓塚石頭拿去墊路基，但我們一直沒有煉出夠多的數量，讓卡車來載運。」請問上述情況最可能發生在哪一時期的中國？ (A) 1850 年代 (B) 1900 年代 (C) 1950 年代 (D) 2000 年代。
  - ( )近來社會上出現飼養螞蟻當觀賞寵物的新興活動，於是小廖從國外購入蟻后、工蟻等活體進行銷售。由於小廖自國外輸入外來種螞蟻的行為，已涉嫌擅自輸入有害生物種，違反相關法律規定，檢察官得知後，蒐集相關事證依法將他起訴。下列何者是小廖在上述程序後最可能面臨的情況？

(A)為避免訴訟，向調解委員會聲請調解 (B)遭法官判處有期徒刑 (C)在法庭上和解，負責賠償所有損失 (D)不服判決結果，提出民事訴訟。

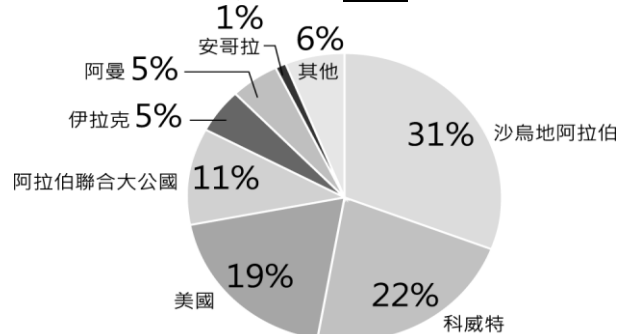
13. ( )下列關於行政罰的說明，何項敘述較為正確？ (A)是立法機關對違規者做的裁罰 (B)只有一般民眾才會受到行政罰 (C)行政罰是行政處分的一種方式 (D)拘役和罰金皆屬於行政罰方式。
14. ( )漠南非洲面積廣大、人口眾多，然而經濟發展仍有增長空間。如今其自然資源帶動某產業發展，成為經濟發展的新契機。請問：該產業為何？ (A)酪農業 (B)觀光業 (C)休閒農業 (D)熱帶栽培業。
15. ( )阿芳到中國陝西一帶旅遊，途中看到一個紀念碑，上面記載著關於中共紅軍突破國軍包圍後的「二萬五千里長征」。請問：「二萬五千里長征」的歷史背景，應該是下列何者？ (A)蔣中正誓師北伐，完成統一 (B)國民政府多次圍剿中共 (C)日本進占東北地區，紅軍向西南方撤退 (D)張學良希望國內一致抗日，因此發動兵諫。
16. ( )附圖是一幅宣傳海報，此宣傳海報最早可能在下列何時何地傳布？



- (A) 1919~1930 年的臺北 (B) 1949~1960 年的臺北 (C) 1916~1928 年的瀋陽 (D) 1932~1945 年的瀋陽
17. ( )2011 年敘利亞爆發內戰，造成數十萬人傷亡。根據聯合國兒童基金會報告，敘利亞孩童因內戰傷亡、徵召為童兵的數量遽增，有近 600 萬兒童仰賴人道救援過活。下列何者為聯合國基於保障兒童基本人權，而通過的具體規範？ (A)世界人權宣言 (B)兒童權利公約 (C)少年事件處理法 (D)兒童及少年福利與權益保障法。
18. ( )附圖是參考某段期間中國人口死亡率估算值而繪製的曲線圖，圖中甲、乙二點之間死亡率的變化，最可能與下列何者有關？



- (A)人民響應抗美援朝，參與韓戰而造成傷亡慘重 (B)大躍進運動期間，政策失當所導致的嚴重饑荒 (C)文化大革命時，紅衛兵鬥爭造成眾多人口死亡 (D)六四天安門事件爆發，政府鎮壓大量抗議群眾。
19. ( )小杜向朋友借一部影集回家觀賞，影集內容與一件刑事案件有關，但因包裝盒破損，僅剩部分劇情說明可辨識，如下表所示。根據我國現行法律判斷，若將三張光碟片按照案件處理的先後次序排列，則其順序應為下列何者？
- 甲……他被警察移送到檢察署，檢察官開始對他訊問……。
- 乙……歷經多次開庭，地方法院的法官即將作出判決……。
- 丙……他因涉嫌殺人被提起公訴，該如何面對接下來……。
- (A)甲、乙、丙 (B)甲、丙、乙 (C)丙、甲、乙 (D)丙、乙、甲。
20. ( )附圖為 2021 年臺灣原油進口來源國比例圖。請問：在臺灣原油主要進口國中會見到下述哪項景觀？



▲ 2021 年臺灣原油進口來源國比例圖

- (A)氣候炎熱多雨，雨林廣布 (B)受盛行西風影響，夏雨冬乾 (C)氣候乾燥，居民傳統衣著寬鬆 (D)尼羅河三角洲為人口聚集之處。
21. ( )以下是一位旅行者到訪上海後的見聞：「此區工廠地帶可以看到日本戰機轟炸的痕跡，但是如果來到租界區，興盛的商業中心立即映入眼中。在此，歐、美國家的主要銀行林立，國民政府的官方銀行：中央銀行，以及中國銀行、交通銀行等仍然繁忙地繼續營業，處理租界區內的金融交易。」此人最可能是在下列何時參訪上海？ (A) 1830 年代 (B) 1890 年代 (C) 1930 年代 (D) 1990 年代。

22. ( )中國於1970年代末推動的改革開放政策，帶動經濟快速成長，但是卻加深區域發展失衡現象。下列關於中國的新聞報導，何者最能反映中國區域發展不均的現象？(A)今年出現的多起沙塵暴，已直接威脅北京、上海及南京等大都市 (B)推動海上絲路計畫，發展從中國沿海港口經印度洋至歐洲的航線 (C)農曆春節將湧現數億人次返鄉人潮，堪稱地表最大規模的人口移動 (D)南方近年降雨減少，旱象環生，南水北調將威脅南方用水的供應量。
23. ( )清末，朝野人士面對外力的衝擊，提出不少意見。一日，小周在路上看到一張標語寫著：「驅逐韃虜，恢復中華，創建民國，平均地權。」請問：張貼此標語的應為下列何派人士？(A)立憲派 (B)守舊派 (C)投降派 (D)革命派。
24. ( )附圖是描繪中國某時期出現的情況，根據內容判斷，此圖最可能呈現下列何者？

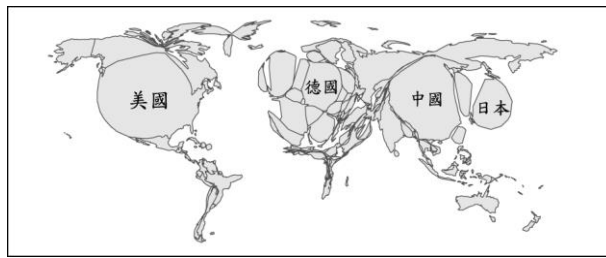


- (A)義和團事變 (B)文化大革命 (C)新文化運動 (D)四川保路運動。
25. ( )民國初年，某位學者了解到孩子自有其世界，並非「縮小的成人世界」。因此呼籲注重兒童教育的重要性，宣稱「遊戲是兒童最正當的行為，玩具是兒童的天使」。請問：這段言論，促進了下列哪些發展？  
甲、培育兒童教育的師資乙、推行適合兒童的教育丙、開啟兒童文學的創作丁、教導成人世界的規矩  
(A)甲乙丙 (B)甲乙丁 (C)甲丙丁 (D)乙丙丁。
26. ( )19世紀以前，歐洲人對撒哈拉沙漠以南的非洲一無所悉，主因是非洲早期對外海運不便，不易與外界交流，居民長期維持較原始的生活方式。下列哪項敘述，是造成非洲對外海運不便的主因？(A)裂谷橫互 (B)港口冬季結冰 (C)氣候南北對稱 (D)海岸平直少良港。
27. ( )2019年12月報載，婦女救援基金會將紀錄片阿媽的秘密原始膠捲捐贈給國家電影中心。婦援會表示，本片忠實記錄戰時受害者臺灣阿嬤們的故事。請問：該片的主題，最有可能是下列何者？(A)南京大屠殺 (B)珍珠港事件 (C)核爆受難者 (D)慰安婦事件。
28. ( )現居臺中的張爺爺，年輕時在上海是位理髮師。他回憶：局勢動盪後，理一次髮原本是55元，不到一個月理髮價已是550元，再隔一個月，必須收費1,260元，才能維持基本生計。請問：張爺爺年輕時所遇到的情況是？(A)民國創立初期貨幣混亂 (B)北伐時期貨幣貶值 (C)國共內戰激化導致通膨 (D)美國斷交貨幣貶值。
29. ( )漠南非洲歷年饑荒不絕，面臨嚴重的糧食問題，成為國際長年關注的焦點。除氣候與戰爭因素外，漠南非洲常見饑荒主要尚與下列哪些原因有關？(甲)過度的開墾導致沙漠化加劇(乙)出生率下降導致高齡化嚴重(丙)經濟作物種植排擠糧食作物(丁)大量技術移民進入境內謀生 (A)甲乙 (B)甲丙 (C)乙丙 (D)乙丁。
30. ( )某項展覽上，展出附圖的歷史圖片。請問：此項展覽的主題，最有可能是下列何者？



- (A)國共內戰的反思 (B)太平洋戰爭的展開 (C)抗戰期間人民的苦難 (D)軍閥統治下的顛沛流離。
31. ( )1954年，美國某位國務卿召開記者會，宣告即將與中華民國外交部部長簽約，是要讓兩國未來的共同軍事合作，能有長期正式條約作為依據。請問：該約最可能為下列何者？(A)開羅宣言 (B)臺灣關係法 (C)雅爾達密約 (D)中美共同防禦條約。
32. ( )中國近代史上某一時期，曾有教授和大學生主張以口語化的新文學取代舊式古典文學，並有意識地反對許多傳統觀念與習俗，將婦女從傳統束縛中解放出來。這樣的主張應出現於下列何時？(A)自強運動 (B)百日維新 (C)立憲運動 (D)新文化運動。

33. ( )東協十國的宗教信仰多元複雜，除了國際貿易帶來不同的宗教外，也與曾受到西方列強的殖民統治有關，至今殖民歷史仍然影響當地發展。請問：下列哪項東南亞特色與殖民歷史最無關？ (A)大量人民到海外提供勞務 (B)具有天主教信仰及英語等文化 (C)大都市多為鄰近港口的港埠型都市 (D)發展大規模的熱帶栽培業，種植物油棕、橡膠等經濟作物。
34. ( )以下是中國天津某年慶祝元旦的相關報導：「政府要求各機關及各民眾團體，在元旦上午參加慶祝中華民國成立的紀念大會。當晚民眾提燈遍遊街市，高呼『勿忘國恥』、『抵制日貨』、『攘外必先安內』、『打倒燒香化紙、磕頭拜年的惡習』等口號。各街市商號張貼標語、懸燈結綵，國民黨黨旗和國旗飄揚天際，蔚為盛況。」上述內容最可能是描繪下列何時的景象？ (A)1861~1895年自強運動期間 (B)1911年四川省保路運動期間 (C)1913年國民黨發動二次革命期間 (D)1928~1937年十年建設期間。
35. ( )前立委帥化民曾說：「效用不彰的政戰系統早就不該單獨存在」。政戰系統是從黃埔建軍以來便存於國軍體制內，但此系統卻不見於國軍仿效的美國軍事體系之中。請問：政戰系統是在什麼政策下參考哪一個國家的軍事體制？ (A)辛亥革命期間，參考德國體制 (B)南北分裂期間，參考英法體制 (C)聯俄容共期間，參考蘇聯體制 (D)北伐軍閥期間，參考日本體制。
36. ( )國內生產毛額 (GDP) 是指在一定時間內一個區域的經濟活動所生產出的全部最終市場價值。附圖是根據國內生產毛額來決定國家大小，區域面積愈大代表國內生產毛額愈高。此圖可以判讀出哪個現象？



▲世界各國國內生產毛額變形地圖

- (A)人口數量多寡 (B)國家面積大小 (C)人均收入多寡 (D)經濟發展程度高低。
37. ( )王同學準備段考複習時，針對國共關係演變整理如下表。但「結果」欄位遲遲無法完成，留下了四個問號。請協助他由上到下依序排列，以利衝刺段考。

時間	關係	影響	結果
民國 12~16 年	聯俄容共	國民政府受到共產黨控制	?
民國 16~26 年	剿匪	引發部分軍民不滿	?
民國 26~34 年	全面抗戰	共產黨趁機壯大勢力	?
民國 34~38 年	動員戡亂	國共內戰大規模爆發	?

- (甲)、中華民國政府播遷來臺 (乙)、張學良發動西安事變 (丙)、蔣中正發動清黨，另行成立南京國民政府 (丁)、國共雙方為了爭奪日軍占領區，爆發多次軍事衝突 (A)甲乙丙丁 (B)甲丁乙丙 (C)丙乙丁甲 (D)丙乙甲丁。
38. ( )就讀國二的小明開車門時，沒注意到後方來車，導致機車騎士摔車受傷，有關其行為衍生的法律責任問題，下列敘述何者正確？ (A)小明非故意，因此沒有法律責任 (B)小明涉及侵權行為，但因未成年不用負責 (C)小明涉及債務不履行，騎士可要求解除契約 (D)小明的損害賠償責任，由法定代理人連帶負責。
39. ( )毛澤東執政時，喊出經濟上「超英趕美」的口號，在外交上逐漸則想擺脫下列哪個國家的約束呢？ (A)美國 (B)蘇聯 (C)英國 (D)法國。
40. ( )下列關於調解的敘述，何者正確？ (A)調解是由各地區警察局受理 (B)調解委員必須具備法官的資格 (C)侵權行為引發的糾紛，可以透過調解來解決 (D)調解與私下和解的效力，均與法院判決相同。
41. ( )「國民政府宣布將遷都□□，以西南各省做為抗戰大後方，並利用中國廣土眾民的條件，制定長期抗戰方針」請問：□□是指哪一個都市？ (A)南京 (B)成都 (C)重慶 (D)北平。
42. ( )學界雖對這項國際會議仍有討論，不過國民政府在會議上取得美國總統羅斯福的支持。遂於會議的次年，設立了臺灣調查委員會，進行接收臺灣的準備工作，這也是國民政府對臺政策轉趨積極的重要開端。請問：這項國際會議，最有可能是下列何者？ (A)巴黎和會 (B)開羅會議 (C)雅爾達會議 (D)聯合國大會。

43. ( )附表為某四個國家對外主要的出口品清單，請由表中資料判斷，何者最可能為漠南非洲國家？

國家	主要出口品
甲	電腦、汽車、肉品
乙	鋼鐵、汽車、紡織
丙	咖啡、可可、石油、鐵礦
丁	牛乳、稻米、鐵礦

(A)甲 (B)乙 (C)丙 (D)丁。





44. ( )鄧小平下令軍隊進入天安門廣場，以武力鎮壓群眾運動。若類似行為發生在我國，可能侵犯中華民國憲法所保障的何項基本權利？ (A)居住遷徙自由 (B)秘密通訊自由 (C)信仰宗教自由 (D)集會結社自由。

45. ( )某書寫到：「此時只有軍心渙散、無法提供足夠防護力的軍人來保護美國大使館，首都市區已經陷於火海之中，美國艦隊已經在外海待命，等的就是一聲令下，開始撤離行動。」請問：符合該書描述的時地選項是下列何者？ (A)1949年，南京 (B)1953年，韓國漢城 (C)1975年，越南西貢 (D)1978年，臺北。

46. ( )汪老師在課堂上展示了一張示意圖，請判斷汪老師上課的內容，應與下列哪個國際組織有關？



(A)(B) (C) (D)。

47. ( )小慧回憶起她年輕時所參與的學生運動：「那一年是1989年，我與一群大學生聚集在廣場，向政府提出我們希望政治改革的訴求。但是，後來政府卻動用軍隊鎮壓了這場學生運動。」請幫她找出與該事件相關的照片是下列哪一張？ (A)  (B)  (C)  (D) 

48. ( )某書提及：「清廷想收回民間集資興建鐵路的權利，所以針對民間已投資者提出補償：在湖南、湖北，投資金額全數償還；在廣東，僅償還60%，其餘40%由政府股票支付；在四川，政府僅發給股票。這種處置引起四川士紳激憤，朝廷為控制騷亂，將部分湖北軍隊調往四川。」上述情況最可能為下列何者的發生提供了機會？ (A)自強運動 (B)戊戌政變 (C)武昌起事 (D)義和團事變。

49. ( )陳同學為了準備課堂報告在網站上搜尋到一張銀幣相片，如附圖。請你協助陳同學判斷，這個銀幣最有可能與下列哪位人物有關呢？



(A)孫中山 (B)梁啟超 (C)宋教仁 (D)袁世凱。

50. ( )1950年代起，美國因應共黨國家在東亞的擴張，聯合友好國家採取圍堵政策。請問：下列選項中，何者是圍堵政策的產物？ (A)日本無條件投降 (B)雅爾達密約 (C)東南亞公約組織 (D)東南亞國家協會。

## 二、題組

### (一)、請閱讀下列文章後，回答問題：

阿甘和父親相依為命，但由於父子間關係不好，因此一旦阿甘需要錢，就用偷竊解決，這使得他反覆進出少年觀護所。他在高中時喪父，儘管得以合法打工，但生活仍然困難，雖有社工和朋友的幫忙，依然無法脫離錢不夠用的困境，甚至一直處在借錢的債務人身分。最後他只好回到那習慣的生活方式—偷：「年紀到了」，則到監獄坐牢服刑期。出獄後，阿甘想對過去的自己說：「可以先尋求幫助，如果真的不行的話，找警察吧！無論如何，我會試著找尋一些新的管道，接受別人幫助，不要走偏。」

與阿甘類似的故事，在少年法院屢見不鮮。我國司法院未來將建置「行政先行」機制，在 2023 年 7 月 1 日後，先由「少年輔導委員會」結合福利、教育、心理、醫療等相關資源，對曝險少年施以適當輔導，如評估確有必要，才請求少年法院處理；故未來將實現行政輔導先行，再以司法為後循，協助曝險少年不偏離常軌，不受環境危害。（資料來源：改寫自 1. 謝孟穎，直到被關才能吃飽三餐！從小學偷到 18 歲，貧困少年告白：如果人生能重來，我也不想犯罪，風傳媒，2019/06/26。2. 吳政峰，少事法立院初審過關 12 歲以下兒童去刑罰化，自由時報，2019/05/21。）

51. ( ) 根據上文判斷，阿甘喪父前的違法行為，適用何項法律處理？ (A)民法 (B)社會秩序維護法 (C)少年事件處理法 (D)兒童及少年福利與權益保障法。
52. ( ) 關於阿甘的故事，下列敘述何者正確？ (A)阿甘是生長在隔代教養家庭的環境 (B)喪父前的違法行為屬少年保護事件 (C)高中時與人借錢是受到刑法的規範 (D)出獄後如再犯罪會被少年法院審判
53. ( ) 上文中「年紀到了」是指年滿幾歲？ (A) 12 歲 (B) 14 歲 (C) 18 歲 (D) 20 歲。

### (二)、彤彤寒假與爸媽到東南亞某國旅遊，行前參考所學的地理教材，旅途中再透過導遊的解說，完成一趟很棒的知性之旅。下方是彤彤的旅遊日記，請回答下列問題：

**第一天：**剛下飛機就可以感受到當地溼熱的天氣，導遊說這裡接近赤道，全年高溫多雨，很常在午後下起雷陣雨。果真吃完中餐後，就下起滂沱大雨，下雨過後天氣也變涼爽了。

**第二天：**今天早上到首都的伊斯蒂克拉爾清真寺參觀，聽說這是東南亞最大的清真寺！中午到了餐廳吃飯，菜單上有明顯的圖案，後來發現所有的零食也幾乎都有這標誌呢！

**第三天：**今天看到了壯闊的火山地形，路邊有一些小販在賣小花束，當地有把花丟進火山口祈福的習俗。愈接近火山口，硫磺的味道會愈來愈重，還可以聽到活火山轟隆隆的聲響。

**第四天：**回到首都附近後，參觀老城，發現很多歐式的建築，導遊說這個國家曾經為荷蘭殖民地，想到歷史老師說過臺灣也曾經被荷蘭統治過呢！

54. ( ) 有清真標誌的餐廳最不可能出現下列哪種菜色？ (A)椰漿西米露 (B)沙嗲雞肉串 (C)燒烤牛肉串 (D)香煎豬五花。
55. ( ) 當地火山地形豐富，和哪個因素最有相關？ (A)地處低緯 (B)板塊分布 (C)全年有雨 (D)四面環海

## 解答

### 一、選擇題

1. 答案：(C)
2. 答案：(B)
3. 答案：(D)
4. 答案：(C)
5. 答案：(C)
6. 答案：(B)
7. 答案：(C)
8. 答案：(D)
9. 答案：(C)
10. 答案：(B)
11. 答案：(C)
12. 答案：(B)
13. 答案：(C)
14. 答案：(B)

15. 答案 : (B)
16. 答案 : (D)
17. 答案 : (B)
18. 答案 : (B)
19. 答案 : (B)
20. 答案 : (C)
21. 答案 : (C)
22. 答案 : (C)
23. 答案 : (D)
24. 答案 : (B)
25. 答案 : (A)
26. 答案 : (D)
27. 答案 : (D)
28. 答案 : (C)
29. 答案 : (B)
30. 答案 : (C)
31. 答案 : (D)
32. 答案 : (D)
33. 答案 : (A)
34. 答案 : (D)
35. 答案 : (C)
36. 答案 : (D)
37. 答案 : (C)
38. 答案 : (D)
39. 答案 : (B)
40. 答案 : (C)
41. 答案 : (B)
42. 答案 : (C)
43. 答案 : (C)
44. 答案 : (D)
45. 答案 : (C)
46. 答案 : (B)
47. 答案 : (D)
48. 答案 : (C)
49. 答案 : (D)
50. 答案 : (C)

#### 二題組

51. 答案 : (C)
52. 答案 : (B)
53. 答案 : (C)
54. 答案 : (D)
55. 答案 : (B)