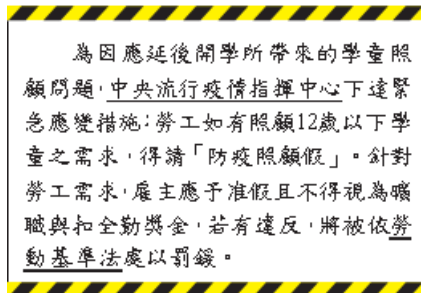


內壢國中 110 學年八年級下學期【社會科補考複習題庫】

(範圍:八下公民、歷史、地理)

(B) 1. 新型冠狀病毒(COVID-19)疫情延燒，為避免群聚感染，我國政府指示各級學校延後開學。有關右圖報導中的緊急應變措施，下列敘述何者正確？

- (A)其屬於狹義的法律 (B)須基於法律而訂定
(C)由立法機關所制定 (D)僅作原則性的規定



(B) 2. 勞動基準法是依據我國憲法第153條：「國家為改良勞工及農民之生活，增進其生產技能，應制定保護勞工及農民之法律，實施保護勞工及農民之政策。」而制定，適用勞動基準法的勞工權益將獲得最基本的保障。請從上述內容判斷，憲法存在得以實現下列何項目的？

- (A)維護社會秩序 (B)保障人民權利
(C)約束政府權力 (D)促進社會進步

(A) 3. 根據警察職權行使法的規定，警察行使職權時，應著制服或出示證件表明身分，並應告知事由，警察未依此規定行使職權者，人民得拒絕之。上述內容最主要在強調下列何種法治觀念？

- (A)法律規範政府的作為，而人民權利受到法律保障
(B)法律制定生效後，對於違法者即產生約束的作用
(C)行政機關修改不合時宜的命令，以保障人民權利
(D)法律是由民意代表所制定，也是人民意思的展現

(C) 4. 阿銓在資料中看到右圖這段對安樂國政權的介紹，請根據其內容判斷安樂國社會可能具備何種特質？

- (A)法律的力量能凌駕於政府之上
(B)重視司法獨立與依法而治精神
(C)法律缺乏對統治者的約束作用
(D)重視自由平等與公平正義精神

統治者為了長期維繫政權以鞏固自身利益，利用金錢來收買人心，並壓制反對勢力。因此即使其在權力運用、資源分配與人權維護等方面備受外界質疑，仍可保持大權在握。

(A) 5. 李文無照駕駛、違規闖紅燈並撞傷學童，警察隨即到場並開單處罰，事後學童家長告上法院。附表是他此次事故所支出的費用，其中屬於行政責任的部分是多少元？

項目	金額(元)
判決敗訴後賠償給學童家長的律師費	80,000
違反交通規則的罰鍰	7,500
賠償被害人(學童)受傷的醫藥費	51,000

(A)7,500 (B)58,500 (C)80,000 (D)87,500

(C) 6. 關於行政法的相關規範，下列敘述何者正確？

- (A)由行政機關所制定的各種法律和命令，皆可以稱為行政法
(B)為了規範國家行政權如何運作，所制定的法典稱為行政法
(C)社會秩序維護法、道路交通管理處罰條例屬行政法的範疇
(D)主要目的是為了讓政府依法行使權利、人民依法承擔義務

(A) 7. 行政機關做成行政行為時可能會侵犯人民權益，對於這種狀況，老師利用右圖為學生介紹了一個法律名詞。根據內容判斷，下列何者最可能是老師所解釋的法律名詞？

(A) 訴願 (B)糾正 (C)糾舉 (D)行政管制

人民認為行政機關的行政處分有違法或不當，損害自己權利時，請求撤銷或變更原行政處分的手段。

(B) 8. 行政法除了規範政府的行為之外，每個人從出生到死亡，許多行為也都會涉及行政法的適用，下列何者屬於「應適用行政法」的事件？

- (A)因課業糾紛，某甲唆使某乙打傷同學
(B)駕駛人未通過警察的酒精測臨檢而受罰
(C)屋主追討租屋房客所積欠的房屋租金
(D)建商要蓋房子，強制原住民拆屋還地

(B) 9. 下列有關刑法的敘述，何者正確？

- (A)是規範私人之間權利義務關係的法律 (B)是為了處罰並遏止犯罪而制定的法律
(C)每個人皆可以依刑法內容處罰犯罪者 (D)是為了控制人民，展現統治權而制定

(D) 10. 阿光向虎哥經營的地下錢莊借錢，由於借款利息太高，以致阿光無法償還。虎哥討債不成，便將阿光打成重傷，阿光忍無可忍決定報警處理。最後法官判定虎哥傷害罪成立，依法虎哥最可能會受到何種處罰？

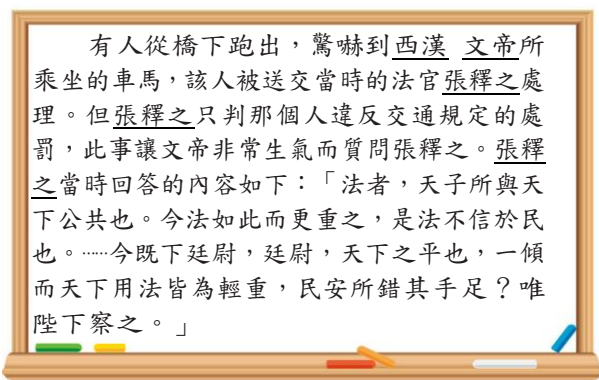
(A)拘留 (B)罰鍰 (C)勒令歇業 (D)有期徒刑

(B) 11現代法治社會，若人民不遵守法律的規定，就必須負擔法律責任。小夫用私人物品長期占用門口道路，被依竊佔罪移送法辦，其所須負擔的法律責任與下列何者相同？

- (A) 小櫻騎機車出門買東西沒有戴安全帽
- (B) 阿強為了購買新款手機，向同學勒索取財
- (C) 胖虎深夜在社區中庭唱歌，妨礙安寧
- (D) 花媽怕兒子學壞，不讓他受國民義務教育

(B) 12公民老師在課堂上進行分組討論，各組同學必須解讀右圖資料，判斷張釋之這段話的意義與何種概念相同。下列各組的回答何者正確？

- (A) 亂世必用重典
- (B) 罪刑法定原則
- (C) 天子犯法與庶民同罪
- (D) 以牙還牙、以眼還眼



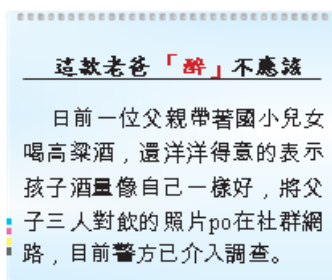
(A) 13小賢在校園中看到宣導某國際法的海報如右圖，請判斷其所宣導的法規最有可能為下列何者？

- (A) 兒童權利公約
- (B) 少年事件處理法
- (C) 兒童及少年性剝削防制條例
- (D) 兒童及少年福利與權益保障法



(D) 14請根據右圖新聞資料，判斷這位父親所違反的法律，與下列何者相同？

- (A) 國小6年級學童未經同意轉載流行樂曲
- (B) 國小3年級學童惡作劇致同學摔倒重傷
- (C) 吳先生和未滿17歲的高中生進行性交易
- (D) 漫畫店老闆將18禁的漫畫租給未成年者



(C) 15警方破獲多起未成年少女陪酒性交易的案件，案件主嫌在年輕人常用的交友軟體上釋出「輕鬆、好賺」等訊息，引誘中輟、逃家少女加入，再沒收她們的證件、手機，

並雇用職業打手統一看管她們的生活起居，使她們無法與外界聯繫。涉案的未成年少女多達20人，年紀最輕者僅14歲。下列敘述何者正確？

- (A) 本案處理適用性騷擾防治法
- (B) 案中未成年少女將被處以罰鍰
- (C) 民眾可撥打113通報此類案件
- (D) 案中主嫌將被安置於中途學校

(D) 16針對公民教育政策的方向，許多學者專家、教師及家長代表均提出自己的見解。請根據右圖討論內容推論，與會者希望將什麼教學目標納入教育政策？

- (A) 讓學生熟悉青少年諮商輔導機制
- (B) 讓學生了解家庭暴力防治的方法
- (C) 讓學生認識兒童及少年保護措施
- (D) 讓學生增進兒童及少年法律常識



(C) 17青少年的身心尚未成熟，基於保護的目的，其犯罪可以減輕刑責。依據我國刑法的規定，符合減輕刑責的年齡範圍為何？

- (A) 12歲以上，未滿20歲
- (B) 12歲以上，未滿18歲
- (C) 14歲以上，未滿18歲
- (D) 14歲以上，未滿20歲

(D) 18.13歲的小喬在書店中偷了價值800元的漫畫書，經店家發現交給警方後，被移送少年法院(庭)處理，則小喬最可能受到下列何種處罰？

- (A) 有期徒刑
- (B) 科處罰金
- (C) 處以罰鍰
- (D) 保護處分

(D) 19新聞報導一名70歲的老先生酒駕，被警方攔下後，不僅以言語辱罵對方，還出手攻擊臨檢的員警，事後老先生解釋當時因為喝醉酒而神智不清，所以完全沒有辨識能力，才導致行為不當，但警方仍將他移送法辦。關於老先生所應負擔刑事責任的說明，下列何者正確？

- (A) 因已經高齡70歲，為限制責任能力人，依法得減輕其刑
- (B) 因為當時有精神障礙，已沒有辨識能力，不需負擔刑責
- (C) 其當時已有心智缺陷，只需負擔部分責任並可減輕刑責
- (D) 雖酒醉但無精神障礙或心智缺陷，須承擔完全刑事責任

(A) 20資訊科技為人類帶來便利，但也造成一些隱憂。從右圖兩位同學的對話中，可以看出資訊科技的發達衍生出下列何種問題？

- (A) 資訊氾濫造成內容真偽難辨
- (B) 資訊公開可能侵犯個人隱私

- (C)電腦病毒藉由網路迅速散播
(D)通訊發達影響人際互動關係

我有傳限時的貼圖給你下載，你點了嗎？
那是不實的訊息，拜託經過證實後再轉傳！

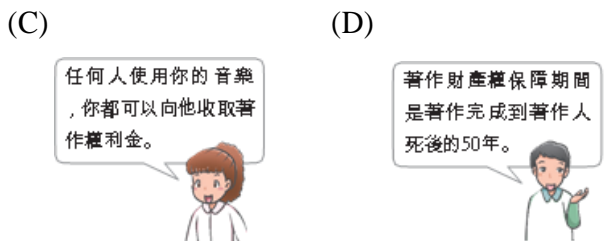
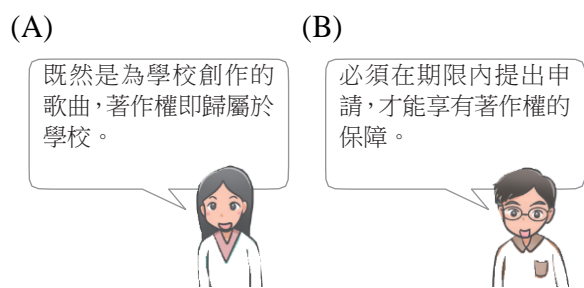


- (D) 21 老師介紹了智慧財產權後，在黑板上繪製下表資料，請同學依據表中資料判斷，甲乙丙依序是何種權利保障的內容？

甲	乙	丙
文學、科學、藝術各領域的創作。	可以用來區別自己與他人商品或服務的標誌。	具有產業利用價值的發明與重要研究成果。

- (A)商標權、專利權、著作權
(B)著作權、專利權、商標權
(C)專利權、著作權、商標權
(D)著作權、商標權、專利權

- (D) 22 阿神為學校校慶創作一首歌並拍攝MV，同學們針對著作權的保障給予他提醒。下列何者最正確？



- (D) 23 針對右圖對話所出現的狀況，下列說明何者最恰當？

- (A)資訊科技發達促成網路社群的盛行，改變人們互動方式
(B)網路詐欺事件不斷，應提升民眾的道德意識及資訊倫理
(C)科技運用帶來許多負面效果，只能減緩經濟發展的腳步
(D)科技引發對個人權益的侵害，有時須藉由法律加以規範



- (A) 24 清廷為了向英、法、德、美四國銀行團借款，宣布「鐵路國有」政策，試圖將川漢、粵漢等鐵路收歸國有，因未給予合理補償，引起各省人士反對，尤以四川省的抗爭最激烈，為革命起事製造有利的機會。上述在四川地區引發的動亂應該是指哪一事件？
(A)保路運動 (B)武昌起義 (C)二次革命 (D)義和團事件

- (B) 25 清末以來，革命黨人為團結力量，陸續成立興中會、同盟會，並多次策動推翻清廷的行動，最後趁機在湖北防務空虛之際起事，得到各省響應，揭開革命成功的序幕。此次的起義行動是指下列何者？
(A)二次革命 (B)武昌起義 (C)誓師北伐 (D)義和團事件

- (C) 26 西元1917年以來，中國同時出現兩個政府組織，一個是北方的「北京政府」，另一個則是南方的「廣州政府」，為了爭奪北京政府的領導權，南北方各派系軍閥彼此征戰不休，造成地方動盪加劇。上述民初中國形成南北分裂情形的原因為何？

- (A)袁世凱暗殺了宋教仁
(B)袁世凱策動帝制復辟
(C)段祺瑞毀棄臨時約法
(D)黎元洪擁護溥儀復辟

- (D) 27 一位政治人物曾說：「孫中山先生畢生的遺憾，便是未能解決各地軍閥肆虐的問題，如今唯有用武力統一各方分裂勢力，為貫徹此主張，我只好誓師北伐掃除各地軍閥割據……。」這最有可能是下列何人的言論？

- (A)黎元洪 (B)袁世凱 (C)段祺瑞 (D)蔣中正

- (D) 28 西元1917年，他接任北京大學校長後，奉行「對於各家學說，依各國大學通例，循思想自由原則，兼容並包」，使北大洋溢多元學術的色彩。這位使北京大學校風為之一變的人物為何？

- (A)胡適 (B)魯迅 (C)陳獨秀 (D)蔡元培

- (D) 29 右圖是某一時期知識分子積極提倡的觀念，認為唯有透過這些新觀念，才能帶給國家新的刺激，挽救國家的困境。當時知識分子所推動的變革應該是下列何者？

- (A)戊戌變法 (B)立憲運動
(C)庚子後新政 (D)新文化運動



- (B) 30 右圖是一幅歷史漫畫的情景，由漫畫中的內容可知，引發此次抗議行動的原因為何？

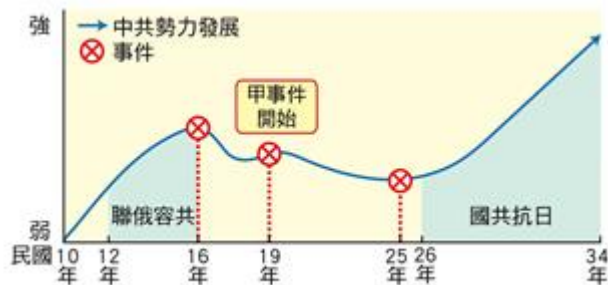
- (A)抗議帝制復辟 (B)力爭山東主權
(C)抗議濟南慘案 (D)抗議臺灣割旦



- (D) 31 文凱說道：「新女性若走入職場，對女性自身人格、教育、社交、婚姻等方面皆有正面影響，不但能減輕男性的負擔，又能使女人不依賴男人養活，保障女性生活及人格的獨立……。」這樣的觀點最可能出現在何時？
(A)明朝初年 (B)明朝末年 (C)清朝初年 (D)民國初年

(C) 32 中國在民國17至26年間的建設工作，提升了國家的實力，有助於日後長期對抗日本侵略，我們可以如何稱呼這一段時期？
 (A)十大建設 (B)清黨分共 (C)黃金十年 (D)自強運動

(D) 33 右圖是中國國民黨與中國共產黨的分合示意圖，兩黨的發展影響著現代中國的歷史走向。圖中的甲事件使得中共勢力縮減，直到西安事變才轉危為安。甲事件為何？
 (A)北伐軍閥 (B)清黨分共
 (C)濟南慘案 (D)剿共戰爭



(A) 34 一九三〇年代日本的軍國主義昂揚，促使該國積極以軍事力量展開對外擴張行動。下列何者可能是造成日本軍國主義高漲的原因之一？
 (A)全球性經濟危機，使日本經濟面臨嚴重困境
 (B)中國日益強大，威脅日本在東亞的領導地位
 (C)日本國內軍人勢力減弱，政府得以積極改革
 (D)共產主義興盛，日本朝野一致投入共產革命

(A) 35 小威看了一部名為南京·1937的電影，劇情描述西元1937年，南京城內的中國軍民遭到敵對勢力殘酷殺害的情景。上述影片的歷史背景為何？
 (A)日軍侵略中國 (B)南北軍閥混戰
 (C)辛亥革命動盪 (D)國民政府剿共

(B) 36 在中共奪權、建國的過程中，最支持中共的應為下列何者？
 (A)城市中的國民黨員 (B)農村中的貧窮農民
 (C)政府中的高級官員 (D)軍隊中的愛國士兵

(C) 37 有篇報導：「趙英男20歲時被下放到西北的萬羊公社去勞動改造，這時正值時期，公社裡本來只有650隻羊，受到號召，以一個月內增加6,500隻羊做為增羊報國的目標。不料方法失當，羊群跑光光，一隻也沒有，逼得公社領導人造假……。」上述的是發生在下列哪一個時期？
 (A)中日戰爭 (B)國共內戰
 (C)大躍進運動 (D)文化大革命

(D) 38 電影活著劇情如下：「為了破四舊，福貴不得不燒毀心愛的皮影戲道具，留下一只空箱子。……福貴的女兒鳳霞臨盆時，醫院遭到學生奪權，醫生們在『打倒學術權威』的口號下被清算，鳳霞因突然血崩卻無醫生施予急救而送命……。」這段情節的時空背景最可能是下列何者？
 (A)國共內戰時期的臺灣 (B)滿洲國成立後的東北
 (C)軍閥混戰時期的華北 (D)文化大革命時的中國

(B) 39 中華人民共和國有一個時期流行的順口溜如下：「生活集體化，食堂如我家」、「吃飯不花錢，努力搞生產」、「人人進入新樂園，吃喝穿用不要錢；雞鴨魚肉味道

鮮，頓頓可吃四個盤；天天可以吃水果，各樣衣服穿不完。」這些順口溜的內容是指下列何者？

- (A)外資到上海建設的大型遊樂園
- (B)共產主義社會實施的人民公社
- (C)臺商在中國所投資設立的工廠
- (D)中國創辦的新式綜合型大賣場

(B) 40 改革開放後，中國大陸經濟競爭力大幅提升，但也出現下列哪一種社會現象？

- (A)迅速達到全民共同致富的目標
- (B)區域、階級間經濟發展不平衡
- (C)平均主義盛行，私有財產消失
- (D)農村收入提高，大量青年返鄉

(C) 41 西元1987年中國大陸的糧食產量較西元1978年大幅增加，從糧食進口國轉變成世界重要的糧食出口國。此種現象與中華人民共和國實施的哪一項政策關係最密切？

- (A)推動經濟責任制，敦促國營企業收購農漁牧產品
- (B)整合農、林、漁、牧業共同管理，提供農民補助
- (C)改革農村，開放農產品市場，農民耕種意願提高
- (D)開放外國企業投資農產品，並直接外銷世界各國

(C) 42 中華人民共和國在某一時期開始推行企業自主，要求各部門完成國家生產任務後，可利用剩餘資金自行生產、銷售並保留利潤，且允許員工獲得績效獎勵。這樣的作法可能達成下列何種成果？

- (A)員工終身受雇，提高就業率
- (B)責任分散，降低市場競爭力
- (C)企業提高自主權和生產效能
- (D)政府部門加強管控企業經營

(A) 43 中國大陸製造業蓬勃發展，被稱為「世界工廠」，主要有三個原因：一是中國是外資直接投資最多的國家；二是中國擁有世界上規模最大的消費市場；第三個原因可能為下列何者？

- (A)勞力充足工資低 (B)生產效率達最高
- (C)企業經營規模大 (D)農業產值比重高

(D) 44 一九五〇～一九六〇年代，聯合國與西方世界主要國家尚未承認中華人民共和國的政權。當時中華人民共和國在國際上主要的盟友是哪個國家？

- (A)日本，因為中日均為亞洲主要國家
- (B)韓國，因為中韓尋求合作對抗日本
- (C)越南，因為中越同為共產主義國家
- (D)蘇聯，因為中蘇聯盟一起對抗美國

(C) 45 美國與中華人民共和國在冷戰時期屬於敵對陣營，雙方直接發生衝突，關係急劇惡化。上述情形與中華人民共和國的哪一場行動有關？

- (A)在國共內戰中打敗蔣中正
- (B)西元1949年出兵攻打金門
- (C)韓戰爆發後派兵支援北韓
- (D)在國際乒乓球賽打敗美國

(A) 46 西元1971年美國派遣乒乓球隊訪問中華人民共和國，為兩國關係破冰的關鍵。當時兩國進行體育交流的背景為何？

- (A)中美兩國都有意緩和政治緊張，改善關係
- (B)美國希望與中國交換大貓熊做為展示之用
- (C)美國人民希望向中國索取二戰時期的借款
- (D)中華人民共和國希望美國放寬移民人數限制

(A) 47西元1972年美國總統尼克森訪問北京，雙方簽署上海公報，兩國展開「關係正常化」發展。當時中華人民共和國的實際領導人為下列何人？

- (A)毛澤東 (B)胡耀邦 (C)鄧小平 (D)習近平

(B) 48亞洲為世界七大洲面積最大的一洲，習慣上會依所在位置區分為：(甲)東亞 (乙)東南亞 (丙)南亞 (丁)西亞 (戊)中亞 (己)北亞等不同的區域。請問：這些分區中哪些地區受季風氣候影響？

- (A)甲乙丙丁
- (B)甲乙丙己
- (C)乙丙丁戊
- (D)丙丁戊己

(B) 49「日本火山活躍，其活火山數量約占全球活火山總數的十分之一，且地震頻繁。」以上內容與日本何種地理特徵有關？

- (A)以溫帶季風氣候為主
- (B)位居在板塊接觸地帶
- (C)河川較短小，缺乏航運價值
- (D)山多田少，山地為主體地形

(B) 50下列何者為朝鮮半島地形分布的特徵？

- (A)半島南部高原地形廣布
- (B)主要平原分布於半島西南側
- (C)脊梁山脈分布於半島西側，主要河川向東流入東海
- (D)山地與河川皆源自中國，且成一山一河間雜排列的地形

(D) 51泡菜為南韓傳統食物，近年來，南韓推出專門存放泡菜的「泡菜冰箱」以供日常食用，可見泡菜對南韓人生活飲食的重要性。請問：南韓盛行泡菜最可能受到下列何種環境因素的影響？

- (A)梅雨季長，食物容易發霉
- (B)冬季少雨，無法種植蔬菜
- (C)夏季酷熱，食物容易發酵
- (D)冬季嚴寒，新鮮蔬菜不足

(D) 52下列南韓的經濟發展所經歷的歷程，何者與臺灣的發展經驗有重大的差異？

- (A)礦產不豐需仰賴進口 (B)曾發展加工出口工業
- (C)致力發展高科技工業 (D)政府極力扶植大財團

(B) 53近年來，南韓的國內生產毛額有顯著增加，與下列哪些產業的關係較為密切？(甲)高科技產業 (乙)軍事工業 (丙)文化產業 (丁)智慧農業

- (A)甲乙 (B)甲丙 (C)乙丁 (D)丙丁

(C) 54 日本企業雖然有許多工廠外移至海外，但仍可維持其國際競爭力，其主因可能為何？

- (A)封閉國內市場 (B)使用大量國際移工

- (C)重視技術研發 (D)不斷淘汰老舊工廠

(C) 55「國際貿易是日本的經濟命脈。」這句話最主要在形容日本經濟發展的哪一項特徵？

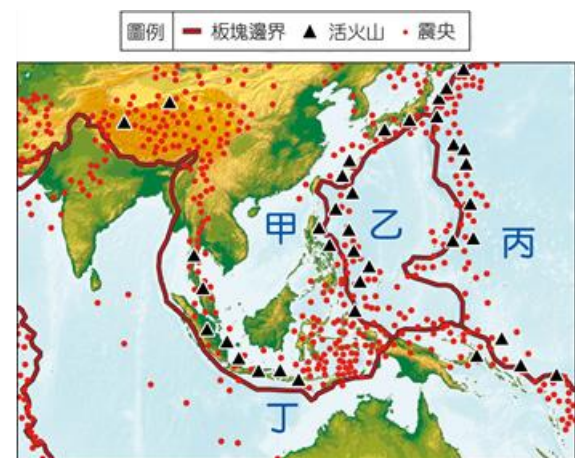
- (A)日本產品價廉質優，在國際市場極具競爭力
- (B)日本的陸運以鐵路為主，客貨運輸極為繁忙
- (C)日本主要工、礦原料均賴進口，製成工業產品運銷全球
- (D)日本海岸線曲折多良港，世界各港口均有日本輪船進出

(D) 56西元2019年7月，東南亞某國家發生颱風侵襲，造成多人死亡，國家派出救難隊努力恢復環境，但7月底又連續發生兩次規模超過5.0以上的地震，使得救難隊疲於奔命。上文所述的國家最可能是下列何者？

- (A)越南 (B)泰國 (C)印尼 (D)菲律賓

(C) 57下圖為板塊示意圖，造成西元2004年南亞大海嘯的主要成因，與哪兩個板塊的擠壓運動有關？

- (A)甲乙 (B)甲丙 (C)甲丁 (D)丙丁



(D) 58西元2019年8月，臺北市觀光傳播局接待馬來西亞演員與知名網紅，宣傳七夕活動與臺北觀光旅遊。臺北市與馬來西亞的合作，反映出政府希望大量拓展哪一種宗教信仰的旅客？

- (A)佛教 (B)基督教 (C)印度教 (D)伊斯蘭教

(C) 59 印度目前是全球重要的軟體研發中心，吸引各國廠商前往設廠，這與印度的哪一項特徵關係最密切？

- (A)市場廣大
- (B)位置優越
- (C)技術勞力
- (D)原料豐富

(A) 60「西元2019年8月，美國宣布針對中國出口到美國的消費品與電子產品增加關稅，事實上，大規模的經濟戰爭已經影響了全球製造部門的布局。在這場風暴中，臺商也必須重新考慮產業布局的問題，而球鞋產業自二〇一〇年代起陸續從中國外移至東南亞，所以影響較小。」根據上文，目前球鞋產業最可能設廠在下列哪一個國家？

- (A)印尼 (B)印度 (C)美國 (D)南韓

(C) 61 民國106年起，政府為了與周邊國家有更廣泛的連結和合作，以共同開創區域的繁榮發展，提出了「新南向政策」，合作對象共有18個國家。右圖是臺灣和周邊國家的示意圖，下列哪一組國家的組合最可能皆是新南向18

國？

- (A) 印度、中國、澳洲
- (B) 越南、南韓、紐西蘭
- (C) 泰國、新加坡、孟加拉
- (D) 日本、菲律賓、馬來西亞



(D) 62西元2020年，美國駐澳洲大使參加澳洲金融評論報商業高峰會時，呼籲澳洲加強對印太地區的影響力，並將勢力逐漸拓展至東南亞，甚至更北方的地區。期待美澳共同合作面對印太地區的競逐問題。美國希望澳洲提升對印太地區的影響，共同面對此區的競爭理由為何？

- (A) 印度的經濟改革開放
- (B) 東南亞市場逐漸擴大
- (C) 伊斯蘭教恐攻問題頻傳
- (D) 中國一帶一路戰略威脅

(C) 63西亞與北非日溫差大，多強風與裸露沙地，常有沙塵暴的發生。上述現象與哪一個環境特色關係最密切？

- (A) 緯度較低
- (B) 高原遍布
- (C) 降水稀少
- (D) 日照充足

(C) 64 西亞與北非的居民為了充分利用珍貴的綠洲，會在較低矮的糧食作物間種植較高的果樹與棗椰，其主要目的為何？

- (A) 阻擋強風、保護作物
- (B) 驅趕蚊蟲、防止疾病
- (C) 遮蔽日光、減少蒸發
- (D) 糧食過剩、轉作果樹

(B) 65 穆斯林在飲食上有嚴格規定，如禁食腐肉及豬肉，每天禮拜以前，必須穿著乾淨衣物，並將臉、手、足洗淨。這些教義的實施，除了彰顯信徒的虔誠，也可以達成何項目的？

- (A) 避免環境破壞
- (B) 注重個人衛生
- (C) 平衡貧富差距
- (D) 緩解文化矛盾

(A) 66西亞與北非必須大量進口小麥的原因，與下列哪一個自然因素有關？

- (A) 降水較少
- (B) 日照不足
- (C) 氾濫頻繁
- (D) 氣候炎熱

(D) 67西亞與北非為主的產油國，於一九六〇年代成立某組織，企圖透過產油國之間的合作，協調各國石油產量與控制國際油價。該組織應為下列何者？

- (A) WTO
- (B) RCEP
- (C) APEC
- (D) OPEC

(B) 68西元2001年的九一一事件是源於西亞對西方國家勢力長期介入的不滿，所引發的恐怖攻擊，這個事件凸顯本區與哪一個國家之間的矛盾？

- (A) 德國
- (B) 美國
- (C) 加拿大
- (D) 俄羅斯

(A) 69在缺乏水源的西亞與北非，流經多國的河流常是引發水權紛爭的主因，引發以色列與巴勒斯坦水權問題的是哪一條河流？

- (A) 約旦河
- (B) 尼羅河
- (C) 底格里斯河
- (D) 幼發拉底河

(B) 70位於兩個廣大陸地間的狹窄連接處，在全球海運上經常以挖掘運河的方式來節省航運里程，其中最著名的為蘇伊士運河和巴拿馬運河。關於蘇伊士運河的地理位置，下列敘述何者正確？

- (A) 位於沙烏地阿拉伯
- (B) 位於亞非兩洲之間
- (C) 是太平洋連結大西洋海域的最短路線
- (D) 是將波斯灣沿岸的石油運往亞洲的必經之路