

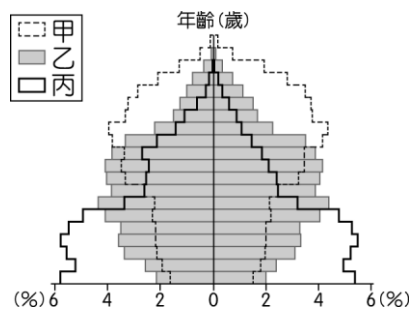
單選題

1. (B) 附表為樂樂國 30 年來出生率、死亡率的變化情形。請問：1990 年該國的自然增加率約為多少？

	1980 年	1990 年	2000 年	2010 年
出生率 (%)	31.0	26.2	15.1	9
死亡率 (%)	8.1	6.0	5.2	5.1

(A) 22.9% (B) 20.2% (C) 9.9% (D) 3.9%

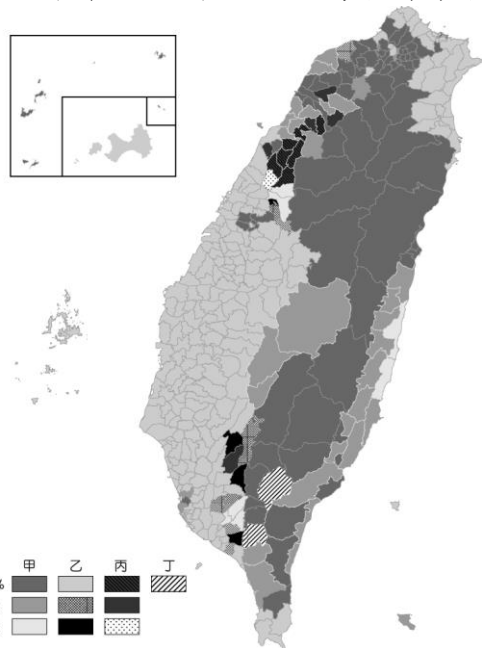
2. (D) 近幾年來，臺灣各地安養中心及護理之家如雨後春筍般設立，這種現象與下列哪一項原因最不相關？  
 (A) 人口結構轉變 (B) 生育率持續下降 (C) 老年人口增加 (D) 人口分布不均。
3. (B) 花東地區長期以來都存在著人口外流的問題，這與下列哪一因素關係最大？ (A) 生活環境差 (B) 就業機會少 (C) 農業條件不佳 (D) 治安惡化。
4. (C) 某國受到人口結構改變的衝擊，長期照護、專屬旅遊、到府清潔、就醫接送等「陪伴商機」也應運而生。附圖為該國不同時期的人口金字塔，該國出現上述陪伴商機最可能是因為其人口結構如何轉變？〔106.會考〕



(A) 由甲轉變成乙 (B) 由甲轉變成丙 (C) 由乙轉變成甲 (D) 由乙轉變成丙。

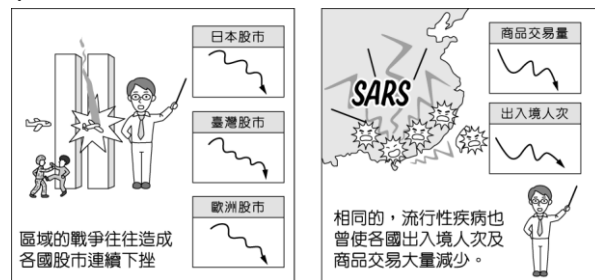
5. (B) 目前臺灣新住民數量漸多，除中國大陸外，其中大多來自哪一國家？ (A) 泰國 (B) 越南 (C) 日本 (D) 馬來西亞。

6. (D) 附圖為臺灣各地主要語言的使用分布圖，若根據圖中資料判斷，丁圖例的語言種類應該為下列何者？



(A) 國語 (B) 閩南語  
 (C) 客家語 (D) 原住民族語。

7. (C) 近年來，臺灣和鄰國經常在經濟海域產生紛爭，甚至威脅生命及財產安全。請問：在經濟海域範圍內，可從事哪些捕撈漁業？ (A) 沿岸漁業、遠洋漁業 (B) 近海漁業、遠洋漁業 (C) 沿岸漁業、近海漁業 (D) 沿岸漁業、近海漁業、遠洋漁業。
8. (C) 臺灣本島最高的農場——臺中市和平區的福壽山農場，海拔高度達 1,800 公尺以上，受到當地自然環境限制，其種植的作物最可能為下列何者？ (A) 稻米 (B) 芒果 (C) 茶葉 (D) 甘蔗。
9. (A) 臺灣傳統農業生產型態已逐漸改變，其原因有下列哪些？(甲) 勞動力不足 (乙) 農村人口老化 (丙) 農業利潤高 (丁) 生產成本降低  
 (A) 甲乙 (B) 乙丙 (C) 丙丁 (D) 甲丁。
10. (C) 各種工業類型的發展條件皆不相同，其中何種工業活動最符合下列特性？(甲) 技術密集度高 (乙) 附加價值高 (丙) 資本密集度高 (A) 輕工業 (B) 重工業 (C) 高科技工業 (D) 加工出口業。
11. (D) 下列哪一項概念，最適合說明附圖漫畫所表達的意義？



(A) 國防依賴性 (B) 外交依賴性  
 (C) 文化依賴性 (D) 貿易依賴性。

12. (D) 聚落的發展除了地形、水文等自然環境的影響外，還受到人文活動的影響甚大。附圖為某聚落的地理位置，早期有防禦功能的需要而興建城牆，後來逐漸發展成為聚落所在。請依圖中的地理位置判斷，該聚落主要保衛下列哪一個地形區？



(A) 臺北盆地 (B) 嘉南平原 (C) 恆春半島 (D) 宜蘭平原。

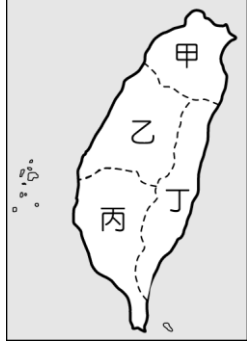
13. (C) 交通路線的規畫要視各地狀況而加以評估，若以捷運交通運輸的特性而言，下列哪一個地區較不適合興建捷運？ (A) 桃園 (B) 臺南 (C) 雲林 (D) 高雄
14. (C) 2016 年總統大選，某候選人提出「8 年蓋 20 萬戶社會住宅」的政見，希望可以解決在房價過高的高都市化地區的青年居住問題。請問：附表四個地區中，何者最適合實施該政見？

	甲	乙	丙	丁
總人口數	200 萬	100 萬	150 萬	80 萬
都市人口數	120 萬	50 萬	120 萬	30 萬

(A) 甲 (B) 乙 (C) 丙 (D) 丁。

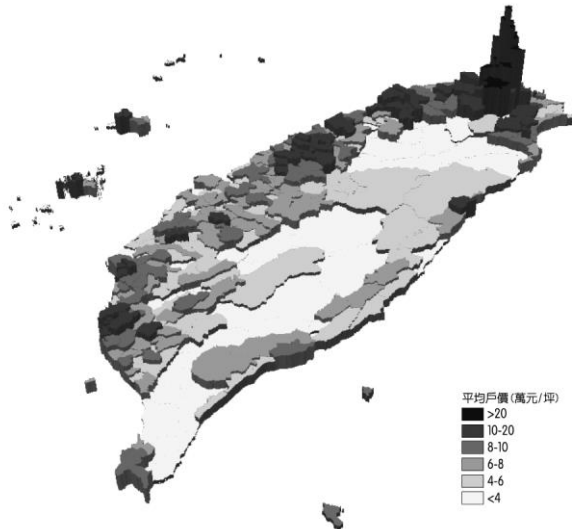
15. (C) 2015 年臺灣登革熱疫情嚴重，病例破萬，中央政府成立疫情指揮中心，全面防堵疫情的擴散。附表為截至 2015 年 9 月 24 日的登革熱病例的分布統計圖，根據表中資訊判斷，要特別加強防疫工作的區域位於附圖中哪一區域？

縣市	病例數	縣市	病例數	縣市	病例數
臺南市	13,960	嘉義縣	13	宜蘭縣	3
高雄市	1,858	新竹縣	12	花蓮縣	3
屏東縣	61	新竹市	9	南投縣	3
新北市	33	嘉義市	9	基隆市	2
臺中市	32	彰化縣	7	金門縣	2
臺北市	29	雲林縣	6	苗栗縣	2
桃園市	25	澎湖縣	4	臺東縣	1



(A) 甲 (B) 乙 (C) 丙 (D) 丁。

16. (A) 附圖為臺灣房價分布圖，由此可推測臺灣社會發展呈現出下列何種特色？



(A) 區域發展差異 (B) 產業結構變遷 (C) 進入高齡社會 (D) 都市化程度低。

17. (C) 附圖是某時期日本在臺灣發布的告示，此告示最可能與下列何者有關？〔108 會考〕

本總督已與清國（清朝）欽差完成交接，從此之後，臺灣全島及澎湖列島已屬我國版圖。然而，前臺灣巡撫竟恣意在臺灣的清兵，反抗我國。在本總督掃蕩之下，該巡撫已經逃回福建，但潰敗的清兵，仍四處逃竄，嚴重威脅治安。現在本總督施恩赦免，將派遣船隻，把願意投降的清兵送回清國。若仍冥頑抵抗，絕不寬恕。

(A) 霧社事件 (B) 牡丹社事件 (C) 臺灣民主國 (D) 臺灣民眾黨。

18. (B) 日軍登陸臺灣後，在臺北舉行始政典禮，正式開始在臺灣的統治。請問：日本人在臺灣設立的最高行政首長是下列何者？ (A) 警察 (B) 總督 (C) 保正 (D) 甲長。

19. (C) 「小春在日治時期改名為春子，並且定期參拜日本神社，她的丈夫也被日本政府徵調到南洋去當軍伕。」根據上文判斷，小春所處的時期有可能為何？ (A) 民族自決時期 (B) 殖民地特殊統治時期 (C) 皇民化運動時期 (D) 內地延長主義時期。

20. (B) 臺灣總督府為了獲取臺灣山林資源，但又受限於原住民不服管教，所以最後制定下列哪一項政策，試圖使原住民歸順臣服？ (A) 警察制度 (B) 五年理蕃計畫 (C) 皇民化運動 (D) 日臺合一政策。

21. (B) 日本自 1930 年代以後，為侵略南洋而推動「南進政策」，臺灣因而改採為「工業臺灣」政策。所謂工業的發展重點是指下列何者？ (A) 民生工業 (B) 國防軍需工業 (C) 交通工業 (D) 化學工業。

22. (D) 日本治臺時期，臺灣由於死亡率下降，人口數量激增，成為當時世界人口數增加最多之地。下列何者並非促成此一現象的因素？ (A) 西式醫療體系的建立 (B) 公共衛生設施的建立 (C) 防疫衛生觀念的普及 (D) 推行國民義務教育。

23. (A) 附圖為 1930 年代的臺灣婦女，從照片中人物的穿著，可看出當時的婦女已不再纏足，穿著也相當時尚。這可能是經歷了何種社會運動後的影響？



(A) 放足運動 (B) 斷髮運動 (C) 守時運動 (D) 守法運動。

24. (B) 中華民國總統因為某個原因從 1948~1991 年期間擴大職權得以連選連任。中央民意代表也可不須重新改選。請問：其原因為何？ (A) 宣布戒嚴 (B) 制定《動員戡亂時期臨時條款》 (C) 實施憲政 (D) 總統直接選舉。

25. (C) 美援促進臺灣的整體經濟成長，控制臺灣戰後的通貨膨脹，減緩了外匯短缺的困境。請問：美國積極援助臺灣，主要是因為何事的發生？ (A) 國共內戰 (B) 中華民國退出聯合國 (C) 韓戰爆發 (D) 中共與美國建交。

26. (B) 附表是 1970 年代初期，中共和我國友邦國家的數目統計表。根據表中內容判斷，造成兩岸邦交國數目變化的主要原因為何？

年分	中華人民共和國	中華民國
1970	49	66
1971	65	55
1972	87	39

(A) 韓戰爆發 (B) 我國退出聯合國 (C) 中共發動八二三炮戰 (D) 我國與美國斷交。

27. (B) 在兩岸處於武力對抗時期，中共企圖以武力奪取臺灣，因而發生過哪些戰役？(甲)古寧頭戰役；(乙)越戰；(丙)八二三炮戰；(丁)韓戰 (A) 甲乙 (B) 甲丙 (C) 乙丙 (D) 甲丁。

28. (B) 蔣經國時期，臺灣面對中共的和平統戰，採取「三不政策」加以回應。請問：「三不政策」的內容為何？ (A) 不接觸、不通商、不妥協 (B) 不接觸、不談判、不妥協 (C) 不統一、不交流、不通話 (D) 不通航、不通郵、不通商。



29. (D) 瑞青想做一份小報告，主題是「臺灣經濟起飛歷程」，他找到下面幾篇論文。請問：他如何依照政策實施時間的先後順序，引用這些論文？

- (甲)今天不做明天就會後悔：十大建設  
 (乙)創造世界第一：科學工業園區誕生  
 (丙)三七五新娘：佃農有能力娶媳婦了  
 (丁)吸引外商投資的利器：加工出口區

- (A)甲乙丙丁 (B)甲乙丁丙 (C)乙丙丁甲  
 (D)丙丁甲乙。

30. (A) 過去臺灣的社會風貌中，有如附圖中主角被老師處罰的情景。請問：這個情景可能出現在臺灣的哪一時期？



- (A)第二次世界大戰後 (B)韓戰後 (C)民國 60 年代 (D)民國 70 年代以後。

31. (A) 關於「文化」，下列哪一位同學的認知最正確？

(A) 人類創造或學習而來的一切成果，都可稱為文化。  
 (B) 通俗音樂難登大雅之堂，不屬於文化範圍。  
 (C) 未開發的原始森林，屬於珍貴的文化遺跡。  
 (D) 文化的內容只包含藝術、文學、電影、音樂。

小玥 小潤 小昆 小竑

32. (B) 下列是阿成所做的公民作業，內容是介紹「次文化」。請問：作業中的哪一觀點錯誤？ (A)次文化是異於主流文化的獨特文化 (B)次文化與主流文化之間，存在著層次高低的分野 (C)次文化可讓一個社會的文化內涵更加多元和豐富 (D)次文化的「次」，並不是次等的意思。

33. (B) 妍琪蒐集資料時看到附圖的現象，根據內容，以下何者說明正確？



- (A)以法國與臺灣社會相比，生活文化較為文明先進  
 (B)多加了解每個文化的風俗習慣，可避免發生誤解  
 (C)弱勢文化應認同強勢文化的價值觀，減少差異性  
 (D)許多傳統文化不符時宜，阻礙世界多元文化發展

34. (B) 下列關於「社會規範」的敘述，何者正確？ (A)目的在使社會生活產生紊亂 (B)可以提供人們行為遵循的準則 (C)完全無法約束人們的行為 (D)是人們無法認可或接受的行為準則。

35. (D) 在社會生活中，個人行為常受到內在心理及外在環境的影響，其中有些規範具有強制力。下列哪一項敘述符合這種特性？

- (A)大年初二女兒回娘家 (B)會議進行中關閉手機  
 (C)縣市長選舉返鄉投票 (D)騎乘機車配戴安全帽

36. (C) 團體必須具有共同的目標，遵守共同的規範，以及團體成員間彼此要有互動。請問：下列何者符合團體的定義？ (A)電影院的觀眾 (B)公車上的乘客 (C)無敵國中校友會的成員 (D)手機首日開賣會場排隊的群眾。

37. (B) 依照附圖中對話，姊姊此舉受到我國哪一項法律的保障？



- (A)《就業保險法》 (B)《憲法》 (C)《性別平等工作法》 (D)《社會救助法》。

38. (C) 阿司想為社會貢獻一己之力，希望藉由參與團體成為志工的方式關心公共事務。請問：阿司應該參加下列哪一個團體才能達成這個目標？ (A)中華電信工會 (B)臺灣大學籃球社 (C)人安基金會 (D)政黨。

39. (B) 我國法律保障民眾可採「公民投票」表達公共意見，關於此種途徑，以下敘述何者正確？ (A)由民間主辦，政府多不干涉 (B)表現民意，將作為施政參考 (C)過程較激烈，時有暴力出現 (D)具強制性，民眾須全體參與。

40. (D) 閱聽人通常從傳播媒體得知各種社會資訊，下列何者不是傳播媒體將資訊傳遞給閱聽人的管道？ (A)報紙 (B)電視 (C)網際網路 (D)電影。

41. (D) 附表為主計總處公布 2018 年家庭收支調查，最高所得家庭可支配的所得比最低所得家庭高出約 6 倍，創下近六年新高。此反映出下列社會中哪一方面的不公平？

	前 20% 所得家庭	最低 20% 所得家庭
可支配的所得	209.9 萬元	34.5 萬元

- (A)需求滿足 (B)貢獻程度 (C)責任負擔  
 (D)利益分配。

42. (C) 下列何者的做法符合我們所要追求的「公平正義」？ (A)大仁捐贈健身器材給國軍 (B)小馬阻止少女坐博愛座 (C)勤勞基金會發放清寒獎助學金 (D)阿聖謾罵插隊人士。

43. (C) 《史記》記載，漢孝文帝勤政愛民，在位時施行德政，發放糧食、生活必需品等救助弱勢人民，安定民心，其執政主要成就便在於穩定漢初社會秩序，發展經濟，開創文景之治。由上述可知，為達到此一目的，何種政策的重要性？ (A)國防外交 (B)教育文化 (C)社會安全 (D)國民經濟。

44. (D) 下列何者不是政府推動社會安全制度時，所應該關注的重點？ (A)弱勢群體的生活需要 (B)失業勞工的就業輔導 (C)受災戶的急難救助 (D)大老闆的薪資所得。

45. (A) 我國社會福利制度中包含依法實施的強制性保險。附圖中克菁所指的社會保險應為下列何者？



- (A) 勞工保險      (B) 軍人保險  
(C) 全民健康保險      (D) 國民年金保險。